

Trường :


Lớp :

Họ và tên :

Năm học : 20..... - 20.....

Vở bài tập **TOÁN 3**

TẬP HAI



NHÀ XUẤT BẢN GIÁO DỤC VIỆT NAM

Trường :


Lớp :

Họ và tên :

Năm học : 20..... - 20.....

Vở bài tập **TOÁN 3**

TẬP HAI



NHÀ XUẤT BẢN GIÁO DỤC VIỆT NAM

VỞ BÀI TẬP TOÁN 3 - TẬP HAI

(Tái bản lần thứ tám)

Chịu trách nhiệm xuất bản :

Chủ tịch Hội đồng Thành viên kiêm Tổng Giám đốc NGÔ TRẦN ÁI

Tổng biên tập kiêm Phó Tổng Giám đốc NGUYỄN QUÝ THAO

Biên soạn :

ĐỖ ĐÌNH HOAN (Chủ biên)

NGUYỄN ÁNG - ĐỖ TIẾN ĐẠT

ĐỖ TRUNG HIỆU - TRẦN DIÊN HIỂN

ĐÀO THÁI LAI - PHẠM THANH TÂM - VŨ DƯƠNG THỤY

Biên tập lần đầu :

VŨ VĂN DƯƠNG - NGUYỄN THỊ BÌNH

Biên tập tái bản và sửa bản in :

LÊ THỊ THANH HẰNG

Thiết kế sách :

NGUYỄN THANH LONG

Trình bày bìa :

TÀO THANH HUYỀN

Biên tập mỹ thuật :

TRẦN THUYẾT HẠNH

Minh họa :

LƯƠNG QUỐC HIỆP

Chế bản :

CÔNG TY CỔ PHẦN MỸ THUẬT VÀ TRUYỀN THÔNG

Bản quyền thuộc Nhà xuất bản Giáo dục Việt Nam.

HƯỚNG DẪN SỬ DỤNG VỞ BÀI TẬP TOÁN 3

- 1.** Vở bài tập Toán 3 chủ yếu gồm các bài luyện tập, thực hành có cùng nội dung, mức độ như các bài tập trong sách giáo khoa, chỉ khác về hình thức thể hiện và số liệu. Cách làm các bài tập trong vở này cũng giống như cách làm các bài tập trong sách giáo khoa. Do đó, giáo viên có thể hướng dẫn học sinh làm bài ở vở này trong các tiết học toán.
- 2.** Để đáp ứng nhu cầu phát triển năng lực học tập toán của học sinh, Vở bài tập Toán 3 còn giới thiệu một số dạng bài tập kiểu mới. Vì vậy, nếu học sinh đã làm các bài tập trong sách giáo khoa thì có thể sử dụng vở bài tập này khi tự học hoặc ôn tập.
- 3.** Trong cùng một buổi học, không nên yêu cầu học sinh vừa làm các bài tập trong sách giáo khoa, vừa làm các bài tập cùng dạng trong vở bài tập này, gây nặng nề không cần thiết.

Bài 88. CÁC SỐ CÓ BỐN CHỮ SỐ

1. Viết (theo mẫu) :

Mẫu :

HÀNG			
Nghìn	Trăm	Chục	Đơn vị
1000	100	10	1
1000	100	10	1
1000		10	1
		10	1
		10	
3	2	5	4

Viết số : 3254.

Đọc số : Ba nghìn hai trăm năm mươi tư.

HÀNG			
Nghìn	Trăm	Chục	Đơn vị
1000	100	10	1
1000		10	1
1000		10	1
1000			1
1000			

Viết số :

Đọc số :

2. Viết (theo mẫu) :

HÀNG				VIẾT SỐ	ĐỌC SỐ
Nghìn	Trăm	Chục	Đơn vị		
7	5	2	8	7528	bảy nghìn năm trăm hai mươi tám
8	1	9	4		
3	6	7	5		
9	4	3	1		
1	9	4	2		

3. Số ?

- a) 1950 → 1951 → → → 1954 →
- b) 3546 → → 3548 → → → 3551
- c) 9822 → → 9824 → → 9826 →
- d) 3260 → 3261 → → → 3264 →

4. Viết tiếp số thích hợp vào dưới mỗi vạch của tia số :



Bài 89 LUYỆN TẬP

1. Viết (theo mẫu) :

a)

Đọc số	Viết số
Ba nghìn năm trăm tám mươi sáu	3586
Năm nghìn bảy trăm bốn mươi ba
Một nghìn chín trăm năm mươi mốt
Tám nghìn hai trăm mười bảy
Một nghìn chín trăm tám mươi tư
Chín nghìn bốn trăm ba mươi lăm

b)

Viết số	Đọc số
1952	một nghìn chín trăm năm mươi hai
6727
5555
9691
1911
8264

2. Viết tiếp số thích hợp vào chỗ chấm :

a) 4557 ; 4558 ; ; ; 4561 ;

b) 6130 ; 6131 ; ; ; ;

c) 9748 ; 9749 ; ; ; ;

d) 3295 ; 3296 ; ; ; ;

3. Viết tiếp số thích hợp vào chỗ chấm :

a) Số lớn nhất có ba chữ số là :

b) Số bé nhất có bốn chữ số là :

c) Các số tròn nghìn từ 4000 đến 9000 là :

Bài 90 _____ CÁC SỐ CÓ BỐN CHỮ SỐ (tiếp theo) _____

1. Viết (theo mẫu) :

HÀNG				VIẾT SỐ	ĐỌC SỐ
Nghìn	Trăm	Chục	Đơn vị		
2	0	0	0	2000	hai nghìn
3	6	0	0	3600	ba nghìn sáu trăm
8	7	0	0		
2	0	1	0		
2	5	0	9		
2	0	0	5		

2. Viết tiếp vào chỗ chấm (theo mẫu) :

Mẫu : Viết số 5400 ; đọc số : năm nghìn bốn trăm.

a) Viết số : 9100 ; đọc số :

b) Viết số : ; đọc số : ba nghìn hai trăm mười.

c) Viết số : 6034 ; đọc số :

d) Viết số : ; đọc số : hai nghìn không trăm linh tư.

e) Viết số : 1001 ; đọc số :

g) Viết số : 2030 ; đọc số :

3. Số ?

a) 6972 → 6973 → → 6975 → →

b) 4008 → → 4010 → → 4012 →

c) 9000 → 9001 → → 9003 → →

4. Viết tiếp số thích hợp vào chỗ chấm :

a) 5000 ; 6000 ; 7000 ; ;

b) 4100 ; 4200 ; 4300 ; ;

c) 7010 ; 7020 ; 7030 ; ;

Bài 91 ____ CÁC SỐ CÓ BỐN CHỮ SỐ (tiếp theo) _____

1. Viết (theo mẫu) :

a) Mẫu : $8679 = 8000 + 600 + 70 + 9$

$9217 = \dots\dots\dots$; $9696 = \dots\dots\dots$

$4538 = \dots\dots\dots$; $5555 = \dots\dots\dots$

$7789 = \dots\dots\dots$; $6574 = \dots\dots\dots$

b) Mẫu : $2004 = 2000 + 4$

$2005 = \dots\dots\dots$; $1909 = \dots\dots\dots$

$9400 = \dots\dots\dots$; $3670 = \dots\dots\dots$

$2010 = \dots\dots\dots$; $2020 = \dots\dots\dots$

2. Viết các tổng thành số có bốn chữ số (theo mẫu) :

a) Mẫu : $5000 + 200 + 70 + 8 = 5278$

$7000 + 600 + 50 + 4 = \dots\dots\dots$; $8000 + 400 + 20 + 7 = \dots\dots\dots$

$2000 + 800 + 90 + 6 = \dots\dots\dots$; $9000 + 900 + 90 + 9 = \dots\dots\dots$

b) Mẫu : $4000 + 20 + 1 = 4021$; $6000 + 4 = 6004$

$3000 + 60 + 8 = \dots\dots\dots$; $5000 + 7 = \dots\dots\dots$

$7000 + 200 + 5 = \dots\dots\dots$; $9000 + 9 = \dots\dots\dots$

$9000 + 50 + 6 = \dots\dots\dots$; $3000 + 300 + 3 = \dots\dots\dots$

$2000 + 100 + 3 = \dots\dots\dots$; $8000 + 700 + 5 = \dots\dots\dots$

3. Viết số (theo mẫu), biết số đó gồm :

Mẫu : Ba nghìn, hai trăm, năm chục, tám đơn vị : 3258.

a) Năm nghìn, bốn trăm, chín chục, hai đơn vị : $\dots\dots\dots$

b) Một nghìn, bốn trăm, năm chục, bốn đơn vị : $\dots\dots\dots$

c) Bốn nghìn, hai trăm, năm đơn vị : $\dots\dots\dots$

d) Bảy nghìn, bảy chục : $\dots\dots\dots$

e) Hai nghìn, năm trăm : $\dots\dots\dots$

4. Viết tiếp vào chỗ chấm (theo mẫu) :

a) Chữ số 5 trong số 2567 chỉ 5 trăm ; b) Chữ số 5 trong số 5982 chỉ $\dots\dots\dots$

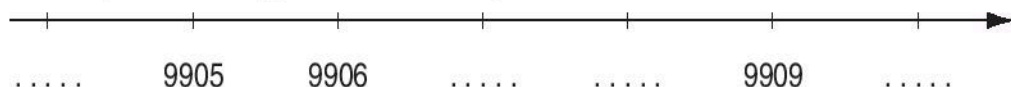
c) Chữ số 5 trong số 4156 chỉ $\dots\dots\dots$; d) Chữ số 5 trong số 1945 chỉ $\dots\dots\dots$

Bài 92 _____ SỐ 10 000 – LUYỆN TẬP _____

1. Viết tiếp số thích hợp vào chỗ chấm :

- a) 5000 ; 6000 ; 7000 ; 8000 ; ;
- b) 9995 ; 9996 ; 9997 ; 9998 ; ;
- c) 9500 ; 9600 ; 9700 ; 9800 ; ;
- d) 9950 ; 9960 ; 9970 ; 9980 ; ;

2. Viết tiếp số thích hợp vào dưới mỗi vạch :



3. Viết số thích hợp vào chỗ chấm :

Số liền trước	Số đã cho	Số liền sau	Số liền trước	Số đã cho	Số liền sau
.....	4528	9090
.....	6139	9999
.....	2000	9899
.....	2005	1952
.....	5860	2009

4. Số ?

- a) Các số tròn nghìn bé hơn 5555 là :
- b) Số tròn nghìn liền trước 9000 là :
- c) Số tròn nghìn liền sau 9000 là :

5. a) Đo rồi viết số đo độ dài thích hợp vào chỗ chấm :

Chiều dài của hình chữ nhật là :



Chiều rộng của hình chữ nhật là :

b) Số ?

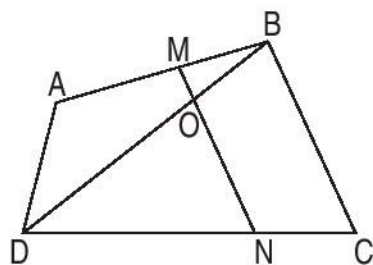
Chu vi của hình chữ nhật là : cm.

Bài 93 ____ ĐIỂM Ở GIỮA. TRUNG ĐIỂM CỦA ĐOẠN THẲNG ____

1. Viết tên các điểm vào chỗ chấm :

a) Trong hình bên có :

- Ba điểm . . . , . . . , . . . thẳng hàng.
- Ba điểm . . . , . . . , . . . thẳng hàng.
- Ba điểm . . . , . . . , . . . thẳng hàng.
- Ba điểm . . . , . . . , . . . thẳng hàng.



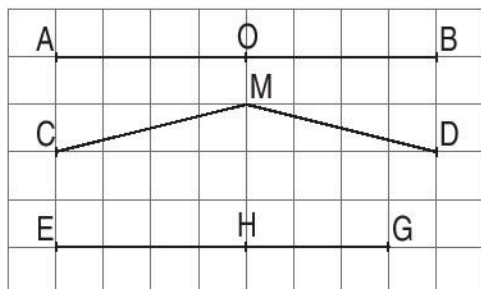
b) – M là điểm ở giữa hai điểm . . . và . . .

– O là điểm ở giữa hai điểm . . . và . . . (hoặc ở giữa hai điểm . . . và . . .)

– N là điểm ở giữa hai điểm . . . và . . .

2. Đúng ghi Đ, sai ghi S :

- M là trung điểm của đoạn thẳng CD. ☐
- O là trung điểm của đoạn thẳng AB. ☐
- H là trung điểm của đoạn thẳng EG. ☐
- O là điểm ở giữa hai điểm A và B. ☐
- H là điểm ở giữa hai điểm E và G. ☐
- M là điểm ở giữa hai điểm C và D. ☐



3. Viết tiếp chữ thích hợp vào chỗ chấm :

a) – Trung điểm đoạn thẳng AB là điểm

– M là của đoạn thẳng CD.

– N là của đoạn thẳng EG.

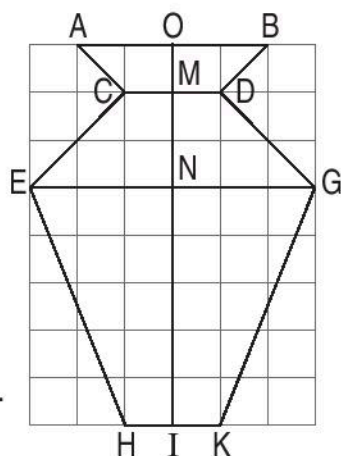
– I là trung điểm của đoạn thẳng

b) Trong các đoạn thẳng AB, CD, EG và HK :

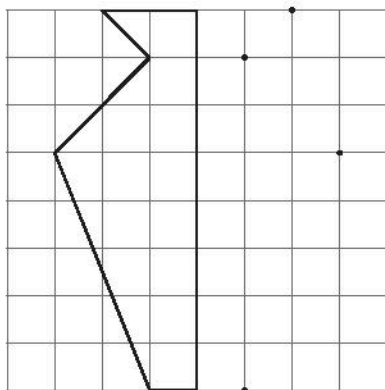
– Đoạn thẳng có độ dài lớn nhất là

– Hai đoạn thẳng có độ dài bằng nhau là

.

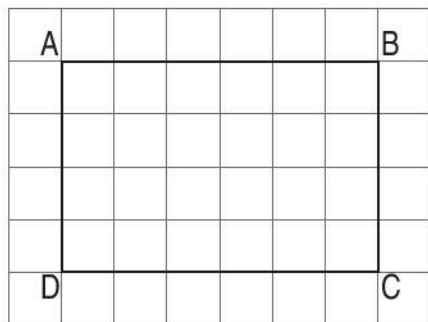


4. Xem hình vẽ ở bài 3 rồi vẽ tiếp một nửa hình còn lại :



Bài 94 LUYỆN TẬP

1. Xác định trung điểm M của đoạn thẳng AB, trung điểm N của đoạn thẳng BC, trung điểm P của đoạn thẳng DC, trung điểm Q của đoạn thẳng AD trong hình bên (bằng cách tô đậm rồi ghi tên mỗi điểm đó). Sau đó viết tên các đoạn thẳng thích hợp vào chỗ chấm :



$$AM = \dots; \quad \dots = NC$$

$$DP = \dots; \quad \dots = AQ.$$

2. Xác định trung điểm của mỗi đoạn thẳng rồi ghi tên trung điểm của đoạn thẳng đó :

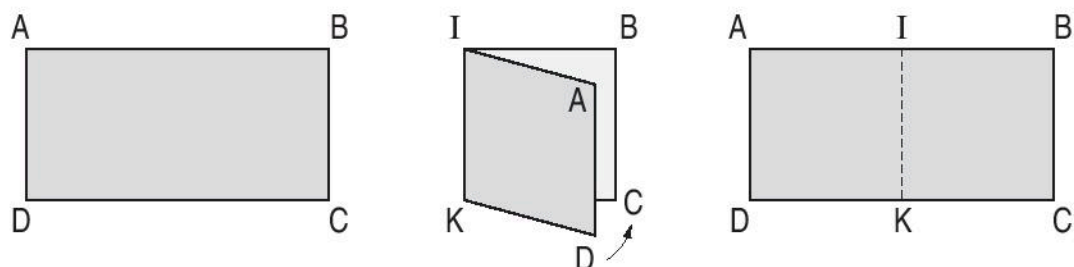
a) $AB = 4\text{cm}$

b) $MN = 6\text{cm}$

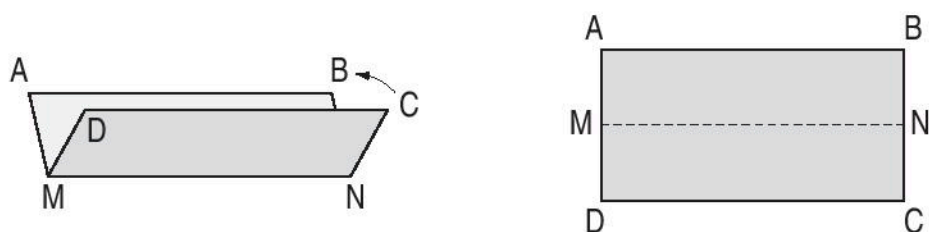


3. Thực hành :

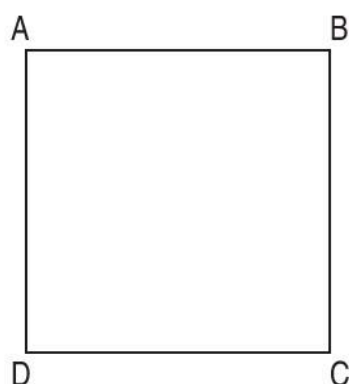
a) Gấp tờ giấy hình chữ nhật ABCD (gấp đoạn thẳng AD trùng với đoạn thẳng BC) rồi đánh dấu trung điểm I của đoạn thẳng AB và trung điểm K của đoạn thẳng DC.



b) Tương tự : Gấp tờ giấy hình chữ nhật ABCD (gấp đoạn thẳng DC trùng với đoạn thẳng AB) rồi đánh dấu trung điểm M của đoạn thẳng AD và trung điểm N của đoạn thẳng BC.



4. Xác định trung điểm M, N, P, Q của mỗi cạnh hình vuông ABCD, dùng thước nối trung điểm hai cạnh liên tiếp của hình vuông ABCD sẽ được hình vuông MNPQ.



Bài 95 _____ SO SÁNH CÁC SỐ TRONG PHẠM VI 10 000 _____

1.

>
<
=

 ?
- | | |
|---|---|
| a) 999 ... 1000
3000 ... 2999
8972 ... 8972
500 + 5 ... 5005 | b) 9999 ... 9998
9998 ... 9990 + 8
2009 ... 2010
7351 ... 7153 |
|---|---|

2.

>
<
=

 ?
- | | |
|---|--|
| a) 1kg ... 999g
690m ... 1km
800cm ... 8m | b) 59 phút ... 1 giờ
65 phút ... 1 giờ
60 phút ... 1 giờ |
|---|--|

3. Khoanh vào chữ đặt trước câu trả lời đúng :


a) Số lớn nhất trong các số 9685, 9658, 9865, 9856 là :

- | | |
|---------|---------|
| A. 9685 | B. 9658 |
| C. 9865 | D. 9856 |

b) Số bé nhất trong các số 4502, 4052, 4250, 4520 là :

- | | |
|---------|---------|
| A. 4502 | B. 4052 |
| C. 4250 | D. 4520 |

4. a) Đo rồi viết số đo độ dài thích hợp vào chỗ chấm :



Độ dài cạnh của hình vuông là :

b) Tính chu vi của hình vuông bên.

Bài giải

.....

Bài 96 **LUYỆN TẬP**

1.

>
<
=

 ?
- | | |
|--|--|
| a) 8998 ... 9898
6574 ... 6547
4320 ... 4320
9009 ... 900 + 9 | b) 1000m ... 1km
980g ... 1kg
1m ... 80cm
1 giờ 15 phút ... 80 phút |
|--|--|

2. Khoanh vào chữ đặt trước kết quả đúng :

a) Bốn số nào được viết theo thứ tự từ bé đến lớn ?

- | | |
|------------------------------|------------------------------|
| A. 6854 ; 6584 ; 6845 ; 6548 | B. 6548 ; 6584 ; 6845 ; 6854 |
| C. 8654 ; 8564 ; 8546 ; 8645 | D. 5684 ; 5846 ; 5648 ; 5864 |

b) Trong các độ dài 200m, 200cm, 2000cm, 2km, độ dài lớn nhất là :

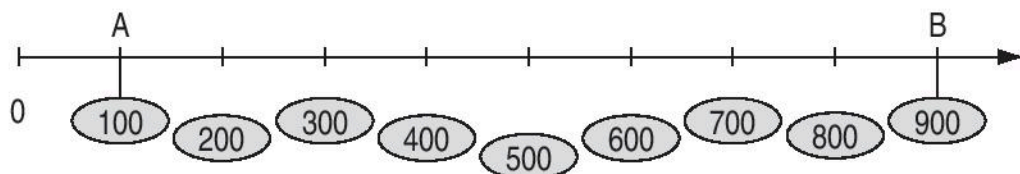
- | | |
|-----------|----------|
| A. 200m | B. 200cm |
| C. 2000cm | D. 2km |

3.

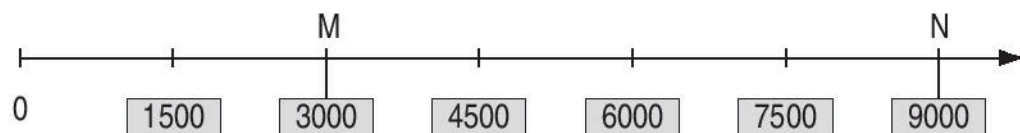
Số

 ?
- a) Số bé nhất có ba chữ số là :
- b) Số bé nhất có bốn chữ số là :
- c) Số lớn nhất có ba chữ số là :
- d) Số lớn nhất có bốn chữ số là :

4. a) Nối trung điểm của đoạn thẳng AB với số thích hợp :



b) Nối trung điểm của đoạn thẳng MN với số thích hợp :



Bài 97 ____ PHÉP CỘNG CÁC SỐ TRONG PHẠM VI 10 000 ____

1. Tính :

$$\begin{array}{r} 4268 \\ + 3917 \\ \hline \end{array}$$

.....

$$\begin{array}{r} 3845 \\ + 2625 \\ \hline \end{array}$$

.....

$$\begin{array}{r} 6690 \\ + 1034 \\ \hline \end{array}$$

.....

$$\begin{array}{r} 7331 \\ + 759 \\ \hline \end{array}$$

.....

2. Đặt tính rồi tính :

$$6823 + 2459$$

.....

.....

.....

$$4648 + 637$$

.....

.....

.....

$$9182 + 618$$

.....

.....

.....


3. Thôn Đông có 2573 người, thôn Đoài có 2719 người. Hỏi cả hai thôn có tất cả bao nhiêu người ?

Bài giải

.....
.....
.....

4. a) Xác định trung điểm M, N, P, Q của mỗi cạnh hình chữ nhật ABCD, dùng thước nối trung điểm hai cạnh liên tiếp của hình chữ nhật ABCD để được hình tứ giác MNPQ.

b) Tô màu hình tứ giác MNPQ.



LUYÊN TẬP

1. Tính nhẩm :

a) $3000 + 5000 = \dots\dots$

$$7000 + 2000 = \dots\dots$$

$$5000 + 5000 = \dots\dots$$

$$6000 + 1000 = \dots\dots$$

$$4000 + 4000 = \dots\dots$$

$$2000 + 8000 = \dots\dots$$

b) $2000 + 700 = \dots\dots$

$$8000 + 500 = \dots\dots$$

$$100 + 1000 = \dots\dots$$

$$5000 + 300 = \dots\dots$$

$$6000 + 600 = \dots\dots$$

$$400 + 6000 = \dots\dots$$

2. Đặt tính rồi tính :

$3528 + 1954$

$$5369 + 1917$$

$$2805 + 785$$

$736 + 358$

■ ■ ■ ■ ■

• • • • •

• • • • •

• • • • •

Year	1999	2000	2001	2002	2003	2004	2005	2006	2007	2008	2009	2010	2011	2012	2013	2014	2015	2016	2017	2018	2019	2020	2021	2022	2023	2024	2025	2026	2027	2028	2029	2030	2031	2032	2033	2034	2035	2036	2037	2038	2039	2040	2041	2042	2043	2044	2045	2046	2047	2048	2049	2050	2051	2052	2053	2054	2055	2056	2057	2058	2059	2060	2061	2062	2063	2064	2065	2066	2067	2068	2069	2070	2071	2072	2073	2074	2075	2076	2077	2078	2079	2080	2081	2082	2083	2084	2085	2086	2087	2088	2089	2090	2091	2092	2093	2094	2095	2096	2097	2098	2099																																																																																																																																																																																																																																																									
1999	1	2	3	4	5	6	7	8	9	10	11	12	13	14	15	16	17	18	19	20	21	22	23	24	25	26	27	28	29	30	31	32	33	34	35	36	37	38	39	40	41	42	43	44	45	46	47	48	49	50	51	52	53	54	55	56	57	58	59	60	61	62	63	64	65	66	67	68	69	70	71	72	73	74	75	76	77	78	79	80	81	82	83	84	85	86	87	88	89	90	91	92	93	94	95	96	97	98	99	100	101	102	103	104	105	106	107	108	109	110	111	112	113	114	115	116	117	118	119	120	121	122	123	124	125	126	127	128	129	130	131	132	133	134	135	136	137	138	139	140	141	142	143	144	145	146	147	148	149	150	151	152	153	154	155	156	157	158	159	160	161	162	163	164	165	166	167	168	169	170	171	172	173	174	175	176	177	178	179	180	181	182	183	184	185	186	187	188	189	190	191	192	193	194	195	196	197	198	199	200	201	202	203	204	205	206	207	208	209	210	211	212	213	214	215	216	217	218	219	220	221	222	223	224	225	226	227	228	229	230	231	232	233	234	235	236	237	238	239	240	241	242	243	244	245	246	247	248	249	250	251	252	253	254	255	256	257	258	259	260	261	262	263	264	265	266	267	268	269	270	271	272	273	274	275	276	277	278	279	280	281	282	283	284	285	286	287	288	289	290	291	292	293	294	295	296	297	298	299	300	301	302	303	304	305	306	307	308	309	310	311	312	313	314	315	316	317	318	319	320	321	322	323	324	325	326	327	328	329	330	331	332	333	334	335	336	337	338	339	340	341	342	343	344	345	346	347	348	349	350

• • • • •

[illegible]

• • • • •

• • • • •

NO. OF STUDENTS	NO. OF STUDENTS	NO. OF STUDENTS	%
1	1	1	1

• • • • •

• • • • •

3. Đội Một hái được 410kg cam, đội Hai hái được nhiều gấp đôi đội Một. Hỏi cả hai đội hái được bao nhiêu ki-lô-gam cam ?

Tóm tắt

Bài giải

• • • • •

.....

• • • • •

.....

• • • • •

.....

.....

.....

4. a) Vẽ đoạn thẳng AB dài 10cm.

b) Dùng thước có vạch chia thành từng xăng-ti-mét để xác định trung điểm M của đoạn thẳng AB.

Bài 99 PHÉP TRỪ CÁC SỐ TRONG PHẠM VI 10 000

1. Tính :

$$\begin{array}{r} 8263 \\ - 5319 \\ \hline \end{array}$$

.....

$$\begin{array}{r} 6074 \\ - 2266 \\ \hline \end{array}$$

.....

$$\begin{array}{r} 5492 \\ - 4778 \\ \hline \end{array}$$

.....

$$\begin{array}{r} 7680 \\ - 579 \\ \hline \end{array}$$

.....

2. Đặt tính rồi tính :

$$\begin{array}{r} 6491 - 2574 \\ \hline \end{array}$$

.....

.....

.....

$$\begin{array}{r} 8072 - 168 \\ \hline \end{array}$$

.....

.....

.....

$$\begin{array}{r} 8900 - 898 \\ \hline \end{array}$$

.....

.....

.....

3. Một cửa hàng có 4550kg đường, đã bán được 1935kg đường. Hỏi cửa hàng còn lại bao nhiêu ki-lô-gam đường ?

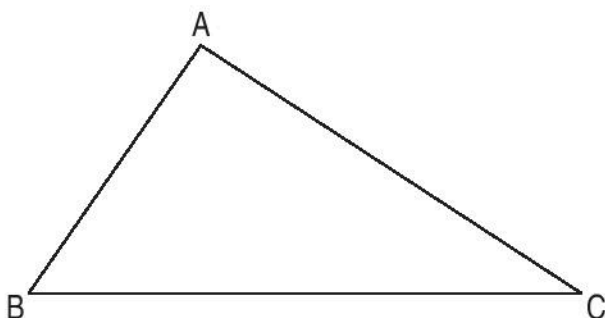
Bài giải

.....

.....

.....

4. a) Đo độ dài rồi viết tiếp vào chỗ chấm :



– Độ dài cạnh AB là :

– Độ dài cạnh AC là :

b) Xác định trung điểm P của cạnh AB và trung điểm Q của cạnh AC.

Bài 100

LUYỆN TẬP.

1. Tính nhẩm :

a) $9000 - 7000 = \dots\dots$

$$5000 - 1000 = \dots\dots$$

$$3000 - 2000 = \dots\dots$$

$$6000 - 5000 = \dots\dots$$

$$8000 - 8000 = \dots\dots$$

$$10000 - 2000 = \dots\dots$$

b) $4600 - 400 = \dots\dots$

$$7200 - 3000 = \dots$$

$$8500 - 500 = \dots\dots$$

$$5600 - 2000 = \dots\dots$$

$$9900 - 300 = \dots\dots$$

$$3800 - 3000 = \dots\dots$$

$$6800 - 700 = \dots\dots$$

$$7400 - 400 = \dots\dots$$

2. Đặt tính rồi tính :

6480 - 4572

7555 – 6648

9600 - 588

Day	Day	2000-2001 Day	2000-2001 Day	2000-2001 Day
1	1	1	1	1

• • • • •

• • • • •

• • • • •

• • • • •

• • • • •

• • • • •

• • • • •

• • • • •

3. Một quầy bán thực phẩm có 3650kg cá, buổi sáng bán được 1800kg cá, buổi chiều bán được 1150kg cá. Hỏi quầy đó còn bao nhiêu ki-lô-gam cá ? (Giải bài toán bằng hai cách).

Bài giải

Cách 1

.....

.....

.....

.....

Cách 2

.....

.....

.....

.....

Bài 101 LUYỆN TẬP CHUNG

1. Tính nhẩm :

a) $3500 + 200 = \dots$; $7100 + 800 = \dots$; $4400 + 300 = \dots$
 $3700 - 200 = \dots$; $7900 - 800 = \dots$; $4700 - 300 = \dots$
 b) $6000 + 2000 = \dots$; $7000 + 3000 = \dots$; $2000 + 8000 = \dots$
 $8000 - 6000 = \dots$; $10000 - 7000 = \dots$; $10000 - 2000 = \dots$
 $8000 - 2000 = \dots$; $10000 - 3000 = \dots$; $10000 - 8000 = \dots$

2. Đặt tính rồi tính :

$4756 + 2834$	$6927 + 835$	$5555 + 445$
.....
.....
.....
$7571 - 2664$	$9090 - 8989$	$1018 - 375$
.....
.....
.....

3. Một thư viện có 960 cuốn truyện tranh, sau đó mua thêm được bằng $\frac{1}{6}$ số truyện tranh đã có. Hỏi thư viện có tất cả bao nhiêu cuốn truyện tranh ?

Bài giải

.....

4. Tìm x :

a) $x + 285 = 2094$	b) $x - 45 = 5605$	c) $6000 - x = 2000$
.....
.....

Bài 102 _____ THÁNG – NĂM _____

1. Viết số thích hợp vào chỗ chấm :

a) Tháng này là tháng

Tháng sau là tháng

Trong một năm, em thích nhất tháng

b) Tháng 1 có . . . ngày

Tháng 12 có . . . ngày

Tháng 4 có . . . ngày

Tháng 5 có . . . ngày

Tháng 8 có . . . ngày

Tháng 9 có . . . ngày

2. a) Viết tiếp các ngày còn thiếu trong tờ lịch tháng 7 năm 2005.

7	Thứ hai		4		18	25
	Thứ ba			12		26
	Thứ tư				20	
	Thứ năm		7			
	Thứ sáu	1		15		29
	Thứ bảy	2	9			
	Chủ nhật		10		24	

b) Xem tờ lịch trên rồi viết số hoặc chữ thích hợp vào chỗ chấm :

– Ngày 4 tháng 7 là thứ

– Ngày 27 tháng 7 là thứ

– Ngày đầu tiên của tháng 7 là thứ

– Tháng 7 có . . . ngày chủ nhật.

– Chủ nhật cuối cùng của tháng 7 là ngày

1.

LỊCH NĂM 2005

Tháng 1

Thứ hai	3	10	17	24	31
Thứ ba	4	11	18	25	
Thứ tư	5	12	19	26	
Thứ năm	6	13	20	27	
Thứ sáu	7	14	21	28	
Thứ bảy	1	8	15	22	29
Chủ nhật	2	9	16	23	30

Tháng 2

Thứ hai	7	14	21	28	
Thứ ba	1	8	15	22	
Thứ tư	2	9	16	23	
Thứ năm	3	10	17	24	
Thứ sáu	4	11	18	25	
Thứ bảy	5	12	19	26	
Chủ nhật	6	13	20	27	

Tháng 3

Thứ hai	7	14	21	28	
Thứ ba	1	8	15	22	29
Thứ tư	2	9	16	23	30
Thứ năm	3	10	17	24	31
Thứ sáu	4	11	18	25	
Thứ bảy	5	12	19	26	
Chủ nhật	6	13	20	27	

Tháng 4

Thứ hai	4	11	18	25	
Thứ ba	5	12	19	26	
Thứ tư	6	13	20	27	
Thứ năm	7	14	21	28	
Thứ sáu	1	8	15	22	29
Thứ bảy	2	9	16	23	30
Chủ nhật	3	10	17	24	

Tháng 5

Thứ hai	2	9	16	23	30
Thứ ba	3	10	17	24	31
Thứ tư	4	11	18	25	
Thứ năm	5	12	19	26	
Thứ sáu	6	13	20	27	
Thứ bảy	7	14	21	28	
Chủ nhật	1	8	15	22	29

Tháng 6

Thứ hai	6	13	20	27	
Thứ ba	7	14	21	28	
Thứ tư	1	8	15	22	29
Thứ năm	2	9	16	23	30
Thứ sáu	3	10	17	24	
Thứ bảy	4	11	18	25	
Chủ nhật	5	12	19	26	

Tháng 7

Thứ hai	4	11	18	25	
Thứ ba	5	12	19	26	
Thứ tư	6	13	20	27	
Thứ năm	7	14	21	28	
Thứ sáu	1	8	15	22	29
Thứ bảy	2	9	16	23	30
Chủ nhật	3	10	17	24	31

Tháng 8

Thứ hai	1	8	15	22	29
Thứ ba	2	9	16	23	30
Thứ tư	3	10	17	24	31
Thứ năm	4	11	18	25	
Thứ sáu	5	12	19	26	
Thứ bảy	6	13	20	27	
Chủ nhật	7	14	21	28	

Tháng 9

Thứ hai	5	12	19	26	
Thứ ba	6	13	20	27	
Thứ tư	7	14	21	28	
Thứ năm	1	8	15	22	29
Thứ sáu	2	9	16	23	30
Thứ bảy	3	10	17	24	
Chủ nhật	4	11	18	25	

Tháng 10

Thứ hai	3	10	17	24	31
Thứ ba	4	11	18	25	
Thứ tư	5	12	19	26	
Thứ năm	6	13	20	27	
Thứ sáu	7	14	21	28	
Thứ bảy	1	8	15	22	29
Chủ nhật	2	9	16	23	30

Tháng 11

Thứ hai	7	14	21	28	
Thứ ba	1	8	15	22	29
Thứ tư	2	9	16	23	30
Thứ năm	3	10	17	24	
Thứ sáu	4	11	18	25	
Thứ bảy	5	12	19	26	
Chủ nhật	6	13	20	27	

Tháng 12

Thứ hai	5	12	19	26	
Thứ ba	6	13	20	27	
Thứ tư	7	14	21	28	
Thứ năm	1	8	15	22	29
Thứ sáu	2	9	16	23	30
Thứ bảy	3	10	17	24	31
Chủ nhật	4	11	18	25	

Xem tờ lịch trên rồi viết số hoặc chữ thích hợp vào chỗ chấm :

a) – Ngày 8 tháng 3 là thứ

– Ngày 2 tháng 9 là thứ

– Ngày 19 tháng 8 là thứ

– Ngày 30 tháng 4 là thứ

– Ngày 22 tháng 12 là thứ

– Ngày cuối cùng của tháng 2 là thứ

– Sinh nhật em là ngày . . . tháng . . . Hôm đó là

b) – Thứ hai đầu tiên của tháng 7 là ngày

– Chủ nhật đầu tiên của năm 2005 là ngày . . . tháng

– Chủ nhật cuối cùng của năm 2005 là ngày . . . tháng

– Tháng 10 có . . . ngày thứ năm, đó là các ngày

2.

Đ
S

 ?

Tháng 2 có 30 ngày	<input type="checkbox"/>	Tháng 12 có 31 ngày	<input type="checkbox"/>
Tháng 5 có 31 ngày	<input type="checkbox"/>	Tháng 8 có 30 ngày	<input type="checkbox"/>
Tháng 7 có 31 ngày	<input type="checkbox"/>	Tháng 9 có 30 ngày	<input type="checkbox"/>

3. Khoanh vào chữ đặt trước câu trả lời đúng :

Ngày 29 tháng 4 là thứ bảy. Ngày 1 tháng 5 cùng năm đó là :

A. Chủ nhật

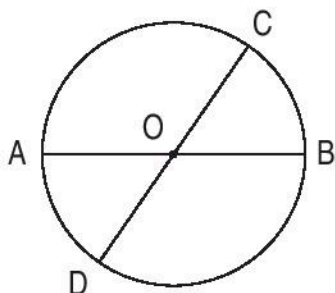
B. Thứ hai

C. Thứ ba

D. Thứ tư.

Bài 104 ____ HÌNH TRÒN, TÂM, ĐƯỜNG KÍNH, BÁN KÍNH ____

1. a) Viết chữ thích hợp vào chỗ chấm :

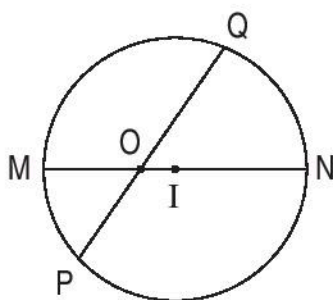


Đây là hình tròn tâm O.

– Các bán kính có trong hình tròn là :

– Các đường kính có trong hình tròn là :

b) Đúng ghi Đ, sai ghi S :



Đây là hình tròn tâm I.

– Các bán kính có trong hình tròn là : IM và IN.

– Đường kính có trong hình tròn là : MN.

– Các bán kính có trong hình tròn là : OQ và OP.

– Đường kính có trong hình tròn là : PQ.



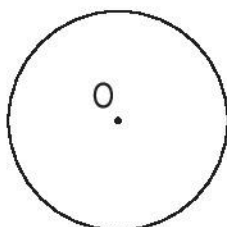
2. Vẽ hình tròn :

a) Tâm O, bán kính 3cm.

b) Tâm tùy ý, bán kính 2cm.

O .

3. a) Vẽ đường kính AB, đường kính MN trong hình tròn dưới đây :



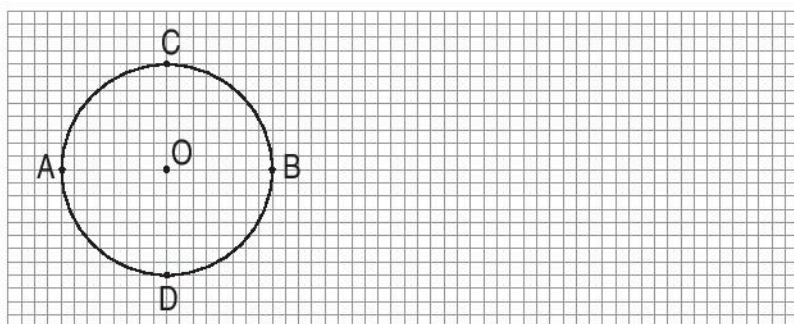
b) Đúng ghi Đ, sai ghi S :

- Độ dài đoạn thẳng OA lớn hơn độ dài đoạn thẳng OM ☐
- $OM = ON$ ☐
- $ON = \frac{1}{2} MN$ ☐
- Độ dài đường kính gấp 2 lần độ dài bán kính ☐
- $AB = MN$. ☐

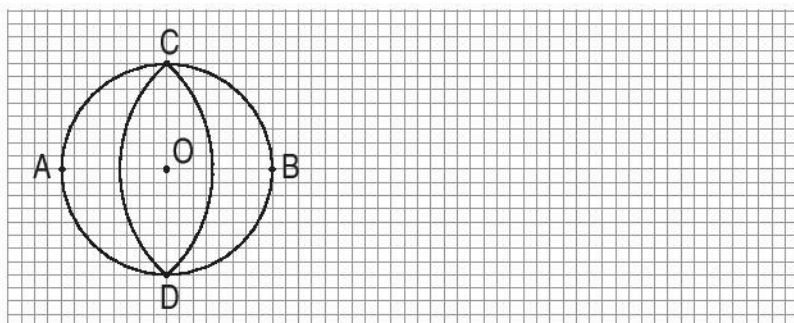
Bài 105. VẼ TRANG TRÍ HÌNH TRÒN

1. Vẽ hình theo các bước sau (theo mẫu) :

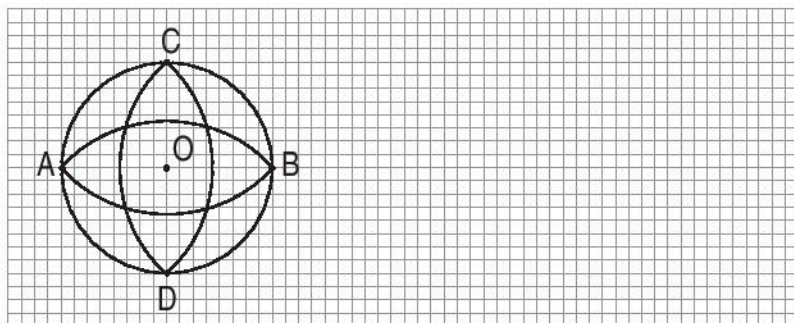
Bước 1. Vẽ hình tròn tâm O, bán kính OA.



Bước 2. Vẽ trang trí hình tròn (tâm A, bán kính AC và tâm B, bán kính BC).



Bước 3. Vẽ trang trí hình tròn (tâm C, bán kính CA và tâm D, bán kính DA).



2. Tô màu trang trí hình đã vẽ ở bài 1 (chọn màu mà em thích).

Bài 106 _____ NHÂN SỐ CÓ BỐN CHỮ SỐ VỚI SỐ _____ CÓ MỘT CHỮ SỐ

1. Tính :

$$\begin{array}{r} 1023 \\ \times 3 \\ \hline \end{array}$$

.....

$$\begin{array}{r} 3102 \\ \times 2 \\ \hline \end{array}$$

.....

$$\begin{array}{r} 2018 \\ \times 4 \\ \hline \end{array}$$

.....

$$\begin{array}{r} 2172 \\ \times 3 \\ \hline \end{array}$$

.....

2. Đặt tính rồi tính :

$$1212 \times 4$$

.....

.....

.....

$$2121 \times 3$$

.....

.....

.....

$$1712 \times 4$$

.....

.....

.....

$$1081 \times 7$$

.....

.....

.....

3. Lát nền mỗi phòng học hết 1210 viên gạch. Hỏi lát nền 8 phòng học như thế hết bao nhiêu viên gạch ?

Bài giải

.....
.....
.....

4. Tính nhẩm :

$20 \times 4 = \dots\dots$	$200 \times 3 = \dots\dots$	$2000 \times 2 = \dots\dots$
$30 \times 4 = \dots\dots$	$300 \times 3 = \dots\dots$	$3000 \times 2 = \dots\dots$
$40 \times 4 = \dots\dots$	$400 \times 3 = \dots\dots$	$4000 \times 2 = \dots\dots$

Bài 108 _____ NHÂN SỐ CÓ BỐN CHỮ SỐ VỚI SỐ _____ CÓ MỘT CHỮ SỐ (tiếp theo)

1. Tính :

$$\begin{array}{r} \times 2138 \\ 2 \\ \hline \end{array}$$

.....

$$\begin{array}{r} \times 1273 \\ 3 \\ \hline \end{array}$$

.....

$$\begin{array}{r} \times 1408 \\ 4 \\ \hline \end{array}$$

.....

$$\begin{array}{r} \times 1719 \\ 5 \\ \hline \end{array}$$

.....

2. Đặt tính rồi tính :

$$1008 \times 6$$

.....

.....

.....

$$1006 \times 8$$

.....

.....

.....

$$1519 \times 4$$

.....

.....

.....

$$1705 \times 5$$

.....

.....

.....

3. Mỗi xe chở 2715 viên gạch. Hỏi 2 xe như thế chở bao nhiêu viên gạch ?

Bài giải

.....

.....

.....

4. Tính chu vi một khu đất hình vuông có cạnh là 1324m.

Bài giải

.....

.....

.....

LUYỆN TẬP

1. Đặt tính rồi tính :

$$3418 \times 2$$

$$2527 \times 3$$

1419×5

1914×5

• • • • •

• • • • •

• • • • •

• • • • •

• • • • •

• • • • •

• • • • •

• • • • •

• • • • •

• • • • •

• • • • •

• • • • •

2. Bình mua 4 quyển vở, mỗi quyển giá 1200 đồng. Bình đưa cho cô bán hàng 5000 đồng. Hỏi cô bán hàng phải trả lại cho Bình bao nhiêu tiền ?

Bài giải

.....

.....

.....

.....

.....

3. Tìm x :

a) $x : 5 = 1308$

b) $x : 6 = 1507$


• • • • •

• • • • •

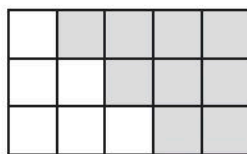
.....

.....

4. Cho hình \mathcal{A} và \mathcal{B} , trong đó có một số ô vuông đã tô màu.



A



Viết số thích hợp vào chỗ chấm :

- Hình A có . . . ô vuông đã tô màu.

- Tô thêm . . . ô vuông để được một hình vuông có 9 ô vuông.

- Hình B có . . . ô vuông đã tô màu.

- Tô thêm . . . ô vuông để được một hình chữ nhật có 12 ô vuông.

Bài 110 CHIA SỐ CÓ BỐN CHỮ SỐ CHO SỐ CÓ MỘT CHỮ SỐ

1. Tính :

$$\begin{array}{r} 2684 \overline{) 2} \\ \hline \end{array}$$

.....

.....

.....

.....

$$\begin{array}{r} 2457 \overline{) 3} \\ \hline \end{array}$$

.....

.....

.....

$$\begin{array}{r} 3672 \overline{) 4} \\ \hline \end{array}$$

.....

.....

.....

2. Người ta đổ đều 1696l dầu vào 8 thùng. Hỏi mỗi thùng có bao nhiêu lít dầu ?

Bài giải

.....

.....

.....

3. Tìm x :

a) $x \times 4 = 2048$

.....

.....

b) $5 \times x = 3055$

.....

.....

c) $x \times 6 = 4278$

.....

.....

d) $7 \times x = 5691$

.....

.....

Bài 111 CHIA SỐ CÓ BỐN CHỮ SỐ CHO SỐ CÓ MỘT CHỮ SỐ (tiếp theo)

1. Tính :

$$\begin{array}{r} 2768 \overline{) 3} \\ \hline \end{array}$$

.....

.....

.....

$$\begin{array}{r} 2495 \overline{) 4} \\ \hline \end{array}$$

.....

.....

.....

$$\begin{array}{r} 3258 \overline{) 5} \\ \hline \end{array}$$

.....

.....

.....

2. Mỗi xe tải cần phải lắp 6 bánh xe. Hỏi có 1280 bánh xe thì lắp được nhiều nhất bao nhiêu xe tải như thế và còn thừa mấy bánh xe ?

Bài giải

.....
.....
.....
.....

3. Tìm x :

a) $x \times 6 = 1266$

.....

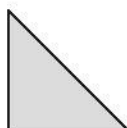
.....

b) $7 \times x = 2884$

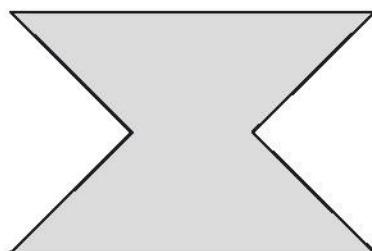
.....

.....

4. Cho 8 hình tam giác, mỗi hình như hình sau :



Hãy xếp thành hình dưới đây :



Bài 112 CHIA SỐ CÓ BỐN CHỮ SỐ CHO SỐ CÓ MỘT CHỮ SỐ (tiếp theo)

1. Đặt tính rồi tính :

$$2718 : 9$$

.....

.....

.....

.....

$$3250 : 8$$

.....

.....

.....

.....

$$5609 : 7$$

.....

.....

.....

.....

$$3623 : 6$$

.....

.....

.....

.....

2. Một đội công nhân phải sửa chữa 2025m đường ống nước, đội đã sửa được $\frac{1}{5}$ số mét đường ống đó. Hỏi đội còn phải sửa chữa bao nhiêu mét đường ống nữa ?

Bài giải

.....
.....
.....
.....
.....

3.

Đ
S

 ?

$$\begin{array}{r} 3535 \overline{) 7} \\ 03 \overline{) 505} \\ 35 \\ 0 \end{array}$$

$$\begin{array}{r} 5624 \overline{) 8} \\ 024 \overline{) 73} \\ 0 \end{array}$$

$$\begin{array}{r} 8120 \overline{) 9} \\ 020 \overline{) 92} \\ 2 \end{array}$$

Bàì 113

LUYỆN TẬP

1. Đặt tính rồi tính :

$$1204 : 4$$

$$2524 : 5$$

2409 : 6

$4224 : 7$

• • • • •

• • • • •

• • • • •

• • • • •

• • • • •

• • • • •

• • • • •

• • • • •

• • • • •

<input type="checkbox"/> <input type="checkbox"/> <input type="checkbox"/>	<input type="checkbox"/> <input type="checkbox"/> <input type="checkbox"/>	<input type="checkbox"/>
--	--	--------------------------

• • • • •

• • • • •

• • • • •

• • • • •

• • • • •

• • • • •

2. Tìm x :

a) $x \times 4 = 1608$

b) $x \times 9 = 4554$

c) $7 \times x = 4942$

• • • • •

• • • • •

Year **Country** **Age** **Gender** **Education** **Occupation**

• • • • •

• • • • •

• • • • •

3. Có 1024 vận động viên xếp đều thành 8 hàng. Hỏi mỗi hàng có bao nhiêu vận động viên ?

Bài giải

.....

4. Một cửa hàng có 1215 chai dầu ăn, đã bán $\frac{1}{3}$ số chai dầu đó. Hỏi cửa hàng còn lại bao nhiêu chai dầu ăn ?

Bài giải

.....

.....

Bài 114. LUYỆN TẬP CHUNG

1. Số ?

$523 \times 3 = \dots\dots$	$402 \times 6 = \dots\dots$	$1017 \times 7 = \dots\dots$	$1207 \times 8 = \dots\dots$
$1569 : 3 = \dots\dots$	$2412 : 6 = \dots\dots$	$7119 : 7 = \dots\dots$	$9656 : 8 = \dots\dots$

2. Đặt tính rồi tính :

$$1253 : 2$$

.....

.....

.....

.....

$$2714 : 3$$

.....

.....

.....

.....

$$2523 : 4$$

.....

.....

.....

.....

$$3504 : 5$$

.....

.....

.....

.....

3. Trong ngày Hội thể dục thể thao, các vận động viên xếp thành các hàng. Ban đầu xếp thành 7 hàng, mỗi hàng có 171 vận động viên. Hỏi khi chuyển thành 9 hàng đều nhau thì mỗi hàng có bao nhiêu vận động viên ?

Bài giải

.....

.....

.....

.....

.....

4. Một khu đất hình chữ nhật có chiều dài 234m, chiều rộng bằng $\frac{1}{3}$ chiều dài. Tính chu vi khu đất đó.

Bài giải

.....

.....

.....

.....

.....

Bài 115 _____ LÀM QUEN VỚI CHỮ SỐ LA MÃ _____

1. Nối (theo mẫu) :

II	<table border="1"> <tr><td>6</td><td>8</td></tr> <tr><td>21</td><td>4</td></tr> <tr><td>2</td><td>11</td></tr> <tr><td>10</td><td>20</td></tr> <tr><td>9</td><td>12</td></tr> </table>	6	8	21	4	2	11	10	20	9	12	IV
6		8										
21		4										
2		11										
10		20										
9	12											
VI	VIII											
IX	XI											
XXI	XII											
X	XX											

2. a) Các số III, VII, V, XX, XII, IX, XXI :

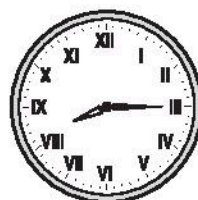

– Viết theo thứ tự từ lớn đến bé là :

– Viết theo thứ tự từ bé đến lớn là :

b) Các số 3, 8, 10, 12, 20, 21 viết bằng số La Mã lần lượt là :

.....

3. Đồng hồ chỉ mấy giờ ?



.....

.....

.....

4. Với 4 que diêm có thể xếp thành các số La Mã nào ? Hãy viết các số đó.

.....

Bài 116 LUYỆN TẬP

1. Viết (theo mẫu) :

II : hai

V :

VI :

IX :

XI :

XX :

Bốn : IV

Bảy :

Tám :

Mười :

Mười hai :

Hai mươi mốt :

2. Vẽ thêm kim phút để đồng hồ chỉ thời gian tương ứng :



19 giờ 20 phút



4 giờ rưỡi



10 giờ kém 25 phút

3. a) Đúng ghi Đ, sai ghi S :

Bốn : VI ☐

Bốn : IV ☐

Tám : IIX ☐

Chín : IX ☐

Mười hai : XII ☐

Mười một : VVI ☐

Mười một : XI ☐

Hai mươi : XX ☐


b) Dùng 5 que diêm có thể xếp được những số La Mã sau :

.....


4. Trò chơi : Dùng 6 que diêm xếp thành số chín (số La Mã). Sau đó nhấc ra 2 que diêm rồi xếp lại để được số bốn, số mười một.

Bài 117 THỰC HÀNH XEM ĐỒNG HỒ


1. Đồng hồ chỉ mấy giờ ?




... giờ ... phút




.....




.....



... giờ phút



.....




.....

hoặc ... giờ phút


.....

.....


2. Vẽ thêm kim phút để đồng hồ chỉ thời gian tương ứng :



9 giờ 6 phút



11 giờ 32 phút



1 giờ kém 14 phút

3. Nói (theo mẫu) :



1 giờ 26 phút




10 giờ rưỡi




5 giờ kém 13 phút



7 giờ 50 phút



12 giờ kém 23 phút



4 giờ 7 phút



2 giờ 35 phút



8 giờ 19 phút

Bài 118 THỰC HÀNH XEM ĐỒNG HỒ (tiếp theo)

1. Viết (theo mẫu) :

a)



Bình tập thể dục lúc 6 giờ 5 phút.

b)




Bình ăn sáng lúc

c)



Bình tan học lúc

d)



Bình tưới cây lúc chiều.

e)



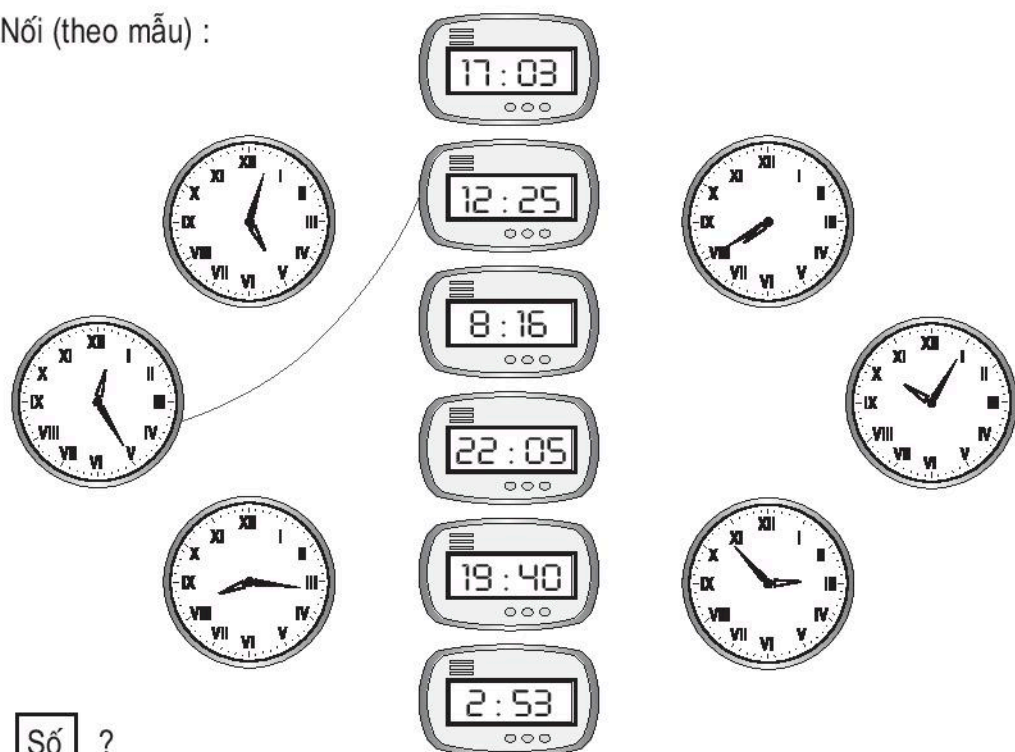
Lúc tối, Bình tập đàn.

g)




Lúc đêm, Bình đang ngủ.

2. Nói (theo mẫu) :




3. Số ?




Chương trình “Vườn cổ tích” kéo dài trong . . . phút.

4. Vẽ thêm kim phút còn thiếu vào đồng hồ B :



Sau 25 phút →



Bài 119 ____ BÀI TOÁN LIÊN QUAN ĐẾN RÚT VỀ ĐƠN VỊ ____

1. Người ta đem 48 cái cốc xếp đều lên 8 bàn. Hỏi trên 3 bàn đó có bao nhiêu cái cốc ?

Bài giải

.....

.....

.....

.....

.....

2. Có 30 cái bánh xếp đều vào 5 hộp. Hỏi trong 4 hộp đó có bao nhiêu cái bánh ?

Bài giải

.....

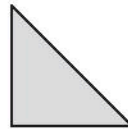
.....

.....

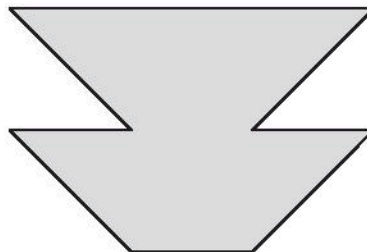
.....

.....

3. Cho 8 hình tam giác, mỗi hình như hình sau :



Hãy xếp thành hình dưới đây :



Bài 120 _____ LUYỆN TẬP _____

1. Có 9345 viên gạch được xếp đều vào 3 lò nung. Hỏi mỗi lò có bao nhiêu viên gạch ?

Bài giải

.....
.....
.....

2. Trong một nhà máy người ta đóng các gói mì vào các thùng, thùng nào cũng có số gói mì như nhau. Biết rằng trong 5 thùng có 1020 gói mì. Hỏi trong 8 thùng có bao nhiêu gói mì ?

Bài giải

.....
.....
.....
.....
.....

3. Lập bài toán theo tóm tắt sau rồi giải bài toán đó :

Tóm tắt

Bài toán

3 xe : 5640 viên gạch

.....

2 xe : ... viên gạch ?

.....

.....

Bài giải

.....
.....
.....
.....
.....

4. Tính giá trị của biểu thức :

a) $3620 : 4 \times 3 = \dots\dots\dots$

$= \dots\dots\dots$

b) $2070 : 6 \times 8 = \dots\dots\dots$

$= \dots\dots\dots$

LUYỆN TẬP

- ### Bài giải

[illegible]

- ### Bài giải

.....

.....

.....

.....

.....

- Một người đi xe đạp mỗi giờ đi được 9km.

Thời gian đi	1 giờ	2 giờ	4 giờ	3 giờ	... giờ
Quãng đường đi	9km	... km	... km	... km	45km

- a) 45 chia 9 nhân 2.

.....

.....

- b) 45 nhân 2 chia 9.

.....

.....

- c) 56 chia 7 chia 2.

.....

.....


- d) 56 chia 2 chia 7.

.....


.....

Bài 122 _____ TIỀN VIỆT NAM _____

1. Viết số thích hợp vào chỗ chấm (theo mẫu) :




6200 đồng



..... đồng



..... đồng

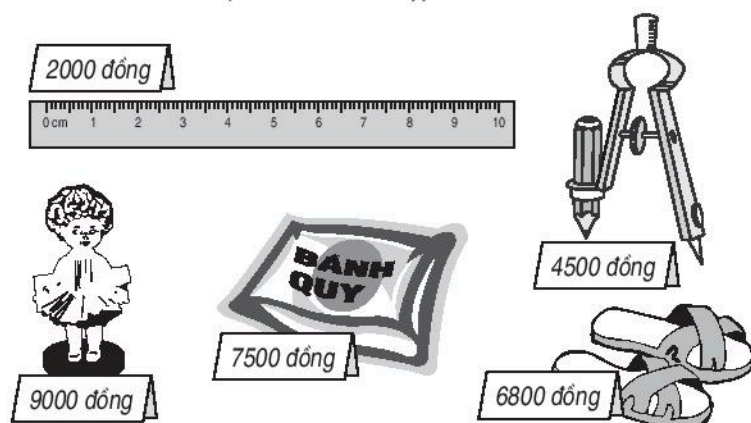


..... đồng

2. Tô màu các tờ giấy bạc để được số tiền tương ứng ở bên phải (theo mẫu) :

<div style="border: 1px solid black; padding: 5px; display: inline-block;">1000 đồng</div> <div style="border: 1px solid black; padding: 5px; display: inline-block;">1000 đồng</div> <div style="border: 1px solid black; padding: 5px; display: inline-block;">1000 đồng</div> <div style="border: 1px solid black; padding: 5px; display: inline-block;">1000 đồng</div>	—	2000 đồng
<div style="border: 1px solid black; padding: 5px; display: inline-block;">2000 đồng</div> <div style="border: 1px solid black; padding: 5px; display: inline-block;">2000 đồng</div> <div style="border: 1px solid black; padding: 5px; display: inline-block;">2000 đồng</div> <div style="border: 1px solid black; padding: 5px; display: inline-block;">2000 đồng</div> <div style="border: 1px solid black; padding: 5px; display: inline-block;">2000 đồng</div> <div style="border: 1px solid black; padding: 5px; display: inline-block;">200 đồng</div>	—	10 000 đồng
<div style="border: 1px solid black; padding: 5px; display: inline-block;">2000 đồng</div> <div style="border: 1px solid black; padding: 5px; display: inline-block;">2000 đồng</div> <div style="border: 1px solid black; padding: 5px; display: inline-block;">2000 đồng</div> <div style="border: 1px solid black; padding: 5px; display: inline-block;">1000 đồng</div> <div style="border: 1px solid black; padding: 5px; display: inline-block;">1000 đồng</div> <div style="border: 1px solid black; padding: 5px; display: inline-block;">1000 đồng</div>	—	5000 đồng
<div style="border: 1px solid black; padding: 5px; display: inline-block;">5000 đồng</div> <div style="border: 1px solid black; padding: 5px; display: inline-block;">2000 đồng</div> <div style="border: 1px solid black; padding: 5px; display: inline-block;">1000 đồng</div> <div style="border: 1px solid black; padding: 5px; display: inline-block;">5000 đồng</div> <div style="border: 1px solid black; padding: 5px; display: inline-block;">2000 đồng</div> <div style="border: 1px solid black; padding: 5px; display: inline-block;">1000 đồng</div>	—	10 000 đồng

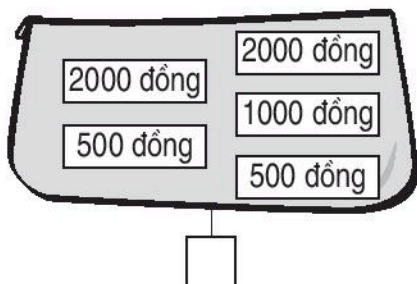
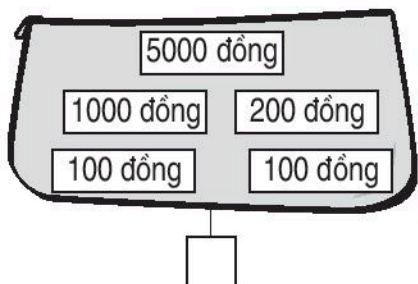
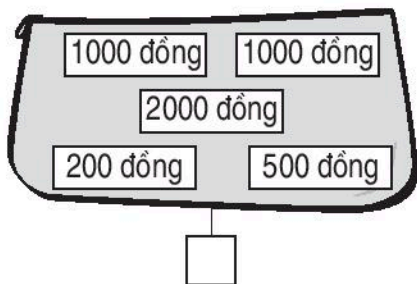
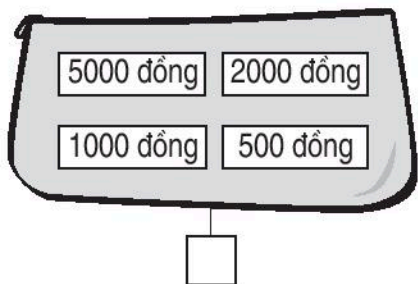
3. Xem tranh rồi viết số hoặc chữ thích hợp vào chỗ chấm :



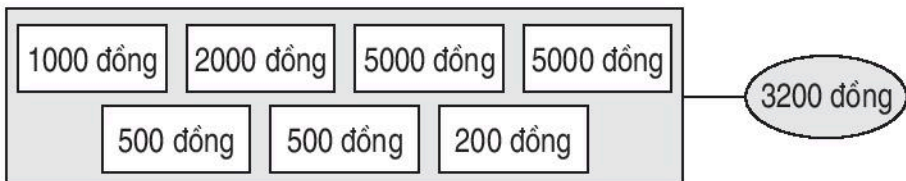
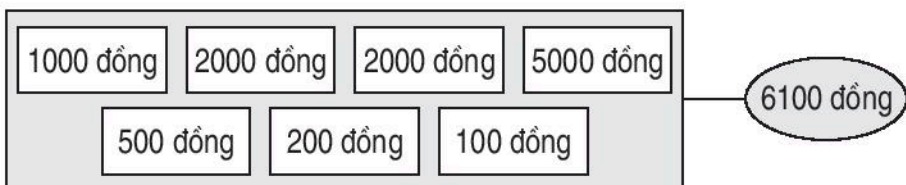
- a) Trong các đồ vật trên : đồ vật có giá tiền ít nhất là :
 đồ vật có giá tiền nhiều nhất là :
- b) Mua một chiếc thước kẻ và một đôi dép thì hết : đồng.
- c) Giá tiền một cái com pa ít hơn giá tiền một gói bánh là : đồng.

LUYÊN TẬP

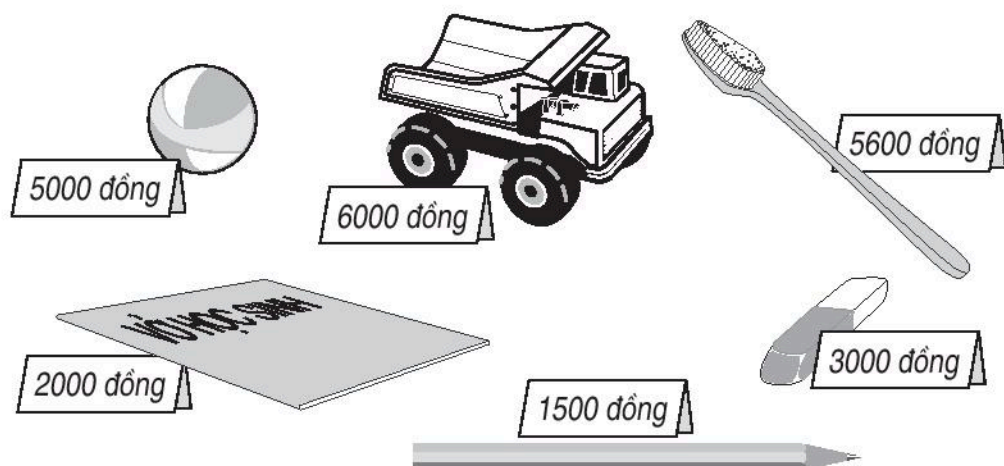
1. Đánh dấu x vào ô trống dưới chiếc ví có ít tiền nhất :



2. Tô màu các tờ giấy bạc để được số tiền tương ứng ở bên phải :



3. Xem tranh rồi viết tên đồ vật thích hợp vào chỗ chấm :



- a) Lan có 3000 đồng, Lan có *vừa đủ tiền* để mua được một
 b) Cúc có 2000 đồng, Cúc có *vừa đủ tiền* để mua được một
 c) An có 8000 đồng, An có *vừa đủ tiền* để mua được

4. Mẹ mua rau hết 5600 đồng. Mẹ đưa cô bán hàng một tờ giấy bạc loại 5000 đồng và một tờ loại 2000 đồng. Hỏi cô bán hàng phải trả lại mẹ bao nhiêu tiền ?

Bài giải

.....

Bài 124. _____ LÀM QUEN VỚI THỐNG KÊ SỐ LIỆU _____

1. Người ta lần lượt cân bốn con vật nuôi trong gia đình : gà, vịt, ngỗng và lợn, được dãy số liệu :

2kg ; 1kg ; 5kg ; 75kg.

Dựa vào dãy số liệu trên, hãy viết tiếp vào chỗ chấm.

- a) Con lợn cân nặng ; b) Con vịt cân nặng
c) Con ngỗng cân nặng ; d) Con gà cân nặng
e) Con ngỗng cân nặng hơn con gà là ; g) Con vật nặng nhất là
h) Con vật nhẹ nhất là
2. Cho dãy số : 110 ; 220 ; 330 ; 440 ; 550 ; 660 ; 770 ; 880 ; 990. Hãy khoanh vào chữ đặt trước kết quả đúng :

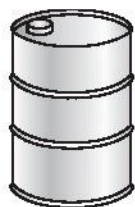
a) Dãy số trên có tất cả bao nhiêu số ?

A. 10 số B. 27 số C. 9 số D. 881 số

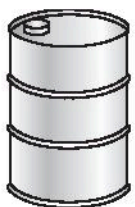
b) Số thứ tám trong dãy là số nào ?

A. 3 B. 8 C. 220 D. 880

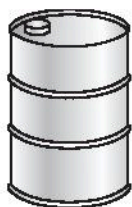
3. Số lít dầu đựng trong mỗi thùng được cho dưới đây :



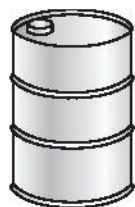
Thùng 1 : 195l



Thùng 2 : 120l



Thùng 3 : 200l



Thùng 4 : 50l

a) Dãy số lít dầu đựng trong bốn thùng trên viết theo thứ tự từ bé đến lớn là :

.....

b) Dựa vào dãy vừa viết, hãy viết số thích hợp vào chỗ chấm :

+ Thùng 2 có nhiều hơn thùng 4 là ... l dầu và ít hơn thùng 1 là ... l dầu.

+ Cả bốn thùng có ... l dầu.

Bài 125 ____ LÀM QUEN VỚI THỐNG KÊ SỐ LIỆU (tiếp theo) ____

1. Dưới đây là bảng thống kê số học sinh của một trường tiểu học :

Khối	Một	Hai	Ba	Bốn	Năm
Số học sinh	140	200	190	240	160

a) Hãy viết chữ hoặc số thích hợp vào chỗ chấm :

Khối Một có . . . học sinh ; khối có 160 học sinh.

b) Khối Hai có ít hơn khối Bốn là . . . học sinh.

2. Dưới đây là bảng thống kê số gạo nếp và gạo tẻ của một cửa hàng bán được trong ba ngày :

Ngày Gạo	Thứ nhất	Thứ hai	Thứ ba
Tẻ	3800kg	2500kg	4800kg
Nếp	1200kg	1800kg	1500kg

Dựa vào bảng trên, hãy viết số thích hợp vào chỗ chấm :

a) Ngày thứ nhất bán được kg gạo tẻ và kg gạo nếp.

b) Ngày thứ hai bán được tất cả kg gạo tẻ và gạo nếp.

c) Ngày thứ ba bán được nhiều hơn ngày thứ hai kg gạo tẻ và ít hơn ngày thứ hai kg gạo nếp.

3. Số điểm 10 của lớp 3A đạt được trong bốn tháng như sau :

Tháng 9 : 185 điểm

Tháng 10 : 203 điểm

Tháng 11 : 190 điểm

Tháng 12 : 170 điểm

Hãy viết số thích hợp vào ô trống :

Tháng	9		11	
Số điểm 10		203		170

Bài 126 _____ **LUYỆN TẬP** _____

1. Cho dãy số : 100 ; 101 ; 102 ; 103 ; 104 ; 105 ; 106 ; 107 ; 108 ; 109.

Nhìn vào dãy trên, viết số thích hợp vào chỗ chấm :

- a) Số thứ nhất trong dãy là số
b) Số thứ năm trong dãy là số
c) Số thứ mười trong dãy là số
d) Trong dãy trên, số chữ số 0 có tất cả là
e) Trong dãy trên, số chữ số 1 có tất cả là
2. Các bạn học sinh của Trường Hoà Bình tham gia Hội khoẻ Phù Đổng đã đạt các giải như sau :

Bơi : 2 giải nhất, 3 giải nhì

Đá cầu : 1 giải nhì, 2 giải ba

Cờ vua : 1 giải nhì.

Viết số thích hợp vào ô trống (theo mẫu) :

<div>Môn</div>	Bơi	Đá cầu	Cờ vua
Giải			
Nhất	2	0	0
Nhì			
Ba			

3. Viết số thích hợp vào ô trống, biết rằng mỗi lớp khối 3 đều có 40 học sinh :

<div>Lớp</div>	3A	3B	3C
Số học sinh nam	17		22
Số học sinh nữ		19	

TỰ KIỂM TRA

Phần 1. Mỗi bài tập dưới đây có các câu trả lời A, B, C, D. Hãy khoanh vào chữ đặt trước câu trả lời đúng.

1. Số liền sau của 4279 là :

- A. 4278 B. 4269 C. 4280 D. 4289

2. Trong các số 5864 ; 8654 ; 8564 ; 6845 ; số lớn nhất là :

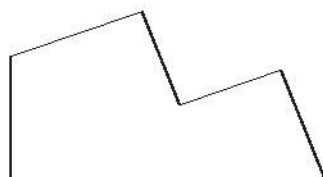
- A. 5864 B. 8654 C. 8564 D. 6845

3. Trong cùng một năm, ngày 23 tháng 3 là thứ ba, ngày 2 tháng 4 là :

- A. Thứ tư B. Thứ năm C. Thứ sáu D. Thứ bảy

4. Số góc vuông trong hình bên là :

- A. 2 B. 3
C. 4 D. 5



5. $9\text{m } 5\text{cm} = \dots \text{cm}$. Số thích hợp điền vào chỗ chấm là :

- A. 14 B. 95 C. 950 D. 905

Phần 2. Làm các bài tập sau :

1. Đặt tính rồi tính :

$6947 + 3528$	$8291 - 635$	2817×3	$9640 : 5$
.....
.....
.....
		
		

2. Bài toán :

Bài giải

Có 5 thùng, mỗi thùng chứa 1106l nước. Người ta lấy ra 2350l nước từ các thùng đó. Hỏi còn lại bao nhiêu lít nước ?

.....

.....

.....

.....

.....

Bài 127 **CÁC SỐ ĐẾN 100 000** **CÁC SỐ CÓ NĂM CHỮ SỐ**

1. Viết (theo mẫu) :

a)

HÀNG				
Chục nghìn	Nghìn	Trăm	Chục	Đơn vị
10 000	1000	100	10	1
10 000	1000	100	10	
10 000	1000		10	
10 000	1000			
4	4	2	3	1

Viết số : 44 231. Đọc số : Bốn mươi tư nghìn hai trăm ba mươi một.

b)

HÀNG				
Chục nghìn	Nghìn	Trăm	Chục	Đơn vị
10 000	1000	100	10	1
10 000	1000	100	10	1
	1000		10	1
				1

2. Viết (theo mẫu) :

HÀNG					VIẾT SỐ	ĐỌC SỐ
Chục nghìn	Nghìn	Trăm	Chục	Đơn vị		
6	8	3	5	2	68 352	sáu mươi tám nghìn ba trăm năm mươi hai
2	7	9	8	3		
8	5	4	2	0		
1	4	7	2	5		

3. Số ?

- a) 50 000 → 60 000 → 70 000 → → →
- b) 28 000 → → 30 000 → → →
- c) 12 500 → 12 600 → → 12 800 → →
- d) 31 720 → 31 730 → 31 740 → → →
- e) 31 720 → 31 721 → 31 722 → → →

4. Viết (theo mẫu) :

- a) Số 34 725 gồm 3 chục nghìn, 4 nghìn, 7 trăm, 2 chục, 5 đơn vị.
- b) Số 43 617 gồm ... chục nghìn, ... nghìn, ... trăm, ... chục, ... đơn vị.
- c) Số 27 513 gồm
- d) Số 8732 gồm

Bài 129 _____ CÁC SỐ CÓ NĂM CHỮ SỐ (tiếp theo) _____

1. Viết (theo mẫu) :

HÀNG					VIẾT SỐ	ĐỌC SỐ
Chục nghìn	Nghìn	Trăm	Chục	Đơn vị		
4	0	0	0	0	40 000	bốn mươi nghìn
5	3	0	0	0		
6	7	3	0	0		
7	2	4	0	9		
6	1	0	3	2		
5	3	0	0	7		
4	0	0	0	4		

2. Viết (theo mẫu) :

Viết số	Đọc số
85 705	tám mươi lăm nghìn bảy trăm linh năm
43 672	
81 000	
	chín mươi nghìn hai trăm
	sáu mươi ba nghìn bảy trăm chín mươi
	bảy mươi sáu nghìn không trăm mười lăm
50 001	

3. Số ?

- a) 25 601 ; 25 602 ; ; ; ;
 b) 89 715 ; 89 716 ; ; 89 718 ; ; ; 89 721.
 c) 28 000 ; 29 000 ; ; ; ; 33 000.
 d) 54 400 ; 54 500 ; ; ; 54 800 ;

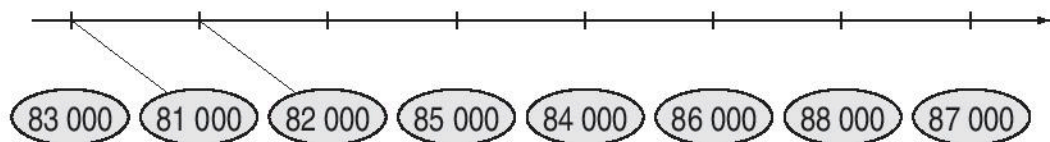
1. Viết (theo mẫu) :

Viết số	Đọc số
26 403	hai mươi sáu nghìn bốn trăm linh ba
21 600	
89 013	
89 003	
98 010	

2. Viết (theo mẫu) :

Đọc số	Viết số
Năm mươi ba nghìn bốn trăm hai mươi	53 420
Năm mươi ba nghìn bốn trăm	
Năm mươi ba nghìn	
Năm mươi sáu nghìn không trăm mười	
Chín mươi nghìn không trăm linh chín	

3. Nối (theo mẫu) :



4. Tính nhẩm :

$$5000 + 100 = \dots\dots$$

$$6000 - (5000 - 1000) = \dots\dots$$

$$7400 - 400 = \dots\dots$$

$$6000 - 5000 + 1000 = \dots\dots$$

$$2000 \times 3 + 600 = \dots\dots$$

$$7000 - 3000 \times 2 = \dots\dots$$

$$8000 : 2 + 2000 = \dots\dots$$

$$(7000 - 3000) \times 2 = \dots\dots$$

Bài 131 SỐ 100 000 - LUYỆN TẬP

1. Số ?

a) 50 000 ; 60 000 ; 70 000 ; ; 90 000 ;

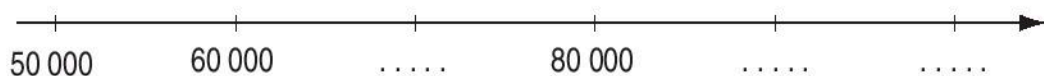
b) 17 000 ; 18 000 ; ; ; 21 000 ;

c) 16 500 ; 16 600 ; ; ; ;

d) 23 475 ; 23 476 ; ; ; ;

2. Viết tiếp số thích hợp vào dưới mỗi vạch :

a)



b)



3. Số ?

Số liền trước	Số đã cho	Số liền sau
31 653	31 654	31 655
	23 789	
	40 107	
	62 180	
	75 699	
	99 999	

Bài 132 __SO SÁNH CÁC SỐ TRONG PHẠM VI 100 000__

1.

>
<
=

 ?
- | | | | | | | | | | | | | | | | | | | | |
|--|------|--------|------|------|-----|------|------|-----|------|---|--------|-----|--------|---------|-----|--------|--------|-----|------|
| <table style="width: 100%; border-collapse: collapse;"> <tr><td style="width: 15%;">2543</td><td style="width: 10%;">...</td><td style="width: 15%;">2549</td></tr> <tr><td>7000</td><td>...</td><td>6999</td></tr> <tr><td>4271</td><td>...</td><td>4271</td></tr> </table> | 2543 | ... | 2549 | 7000 | ... | 6999 | 4271 | ... | 4271 | <table style="width: 100%; border-collapse: collapse;"> <tr><td style="width: 15%;">26 513</td><td style="width: 10%;">...</td><td style="width: 15%;">26 517</td></tr> <tr><td>100 000</td><td>...</td><td>99 999</td></tr> <tr><td>99 999</td><td>...</td><td>9999</td></tr> </table> | 26 513 | ... | 26 517 | 100 000 | ... | 99 999 | 99 999 | ... | 9999 |
| 2543 | ... | 2549 | | | | | | | | | | | | | | | | | |
| 7000 | ... | 6999 | | | | | | | | | | | | | | | | | |
| 4271 | ... | 4271 | | | | | | | | | | | | | | | | | |
| 26 513 | ... | 26 517 | | | | | | | | | | | | | | | | | |
| 100 000 | ... | 99 999 | | | | | | | | | | | | | | | | | |
| 99 999 | ... | 9999 | | | | | | | | | | | | | | | | | |
-
2.

>
<
=

 ?
- | | | | | | | | | | | | | | | | | | | | |
|---|--------|--------------|--------|------|-----|-------------|--------|-----|--------------|---|--------|-----|--------|--------|-----|--------|--------|-----|-------------|
| <table style="width: 100%; border-collapse: collapse;"> <tr><td style="width: 15%;">27 000</td><td style="width: 10%;">...</td><td style="width: 15%;">30 000</td></tr> <tr><td>8000</td><td>...</td><td>9000 – 2000</td></tr> <tr><td>43 000</td><td>...</td><td>42000 + 1000</td></tr> </table> | 27 000 | ... | 30 000 | 8000 | ... | 9000 – 2000 | 43 000 | ... | 42000 + 1000 | <table style="width: 100%; border-collapse: collapse;"> <tr><td style="width: 15%;">86 005</td><td style="width: 10%;">...</td><td style="width: 15%;">86 050</td></tr> <tr><td>72 100</td><td>...</td><td>72 099</td></tr> <tr><td>23 400</td><td>...</td><td>23000 + 400</td></tr> </table> | 86 005 | ... | 86 050 | 72 100 | ... | 72 099 | 23 400 | ... | 23000 + 400 |
| 27 000 | ... | 30 000 | | | | | | | | | | | | | | | | | |
| 8000 | ... | 9000 – 2000 | | | | | | | | | | | | | | | | | |
| 43 000 | ... | 42000 + 1000 | | | | | | | | | | | | | | | | | |
| 86 005 | ... | 86 050 | | | | | | | | | | | | | | | | | |
| 72 100 | ... | 72 099 | | | | | | | | | | | | | | | | | |
| 23 400 | ... | 23000 + 400 | | | | | | | | | | | | | | | | | |

3. a) Khoanh vào số lớn nhất :

54 937 ; 73 945 ; 39 899 ; 73 954.

b) Khoanh vào số bé nhất :

65 048 ; 80 045 ; 50 846 ; 48 650.

4. a) Các số 20 630 ; 60 302 ; 30 026 ; 36 200 viết theo thứ tự từ bé đến lớn là :

.....

b) Các số 47 563 ; 36 574 ; 35 647 ; 65 347 viết theo thứ tự từ lớn đến bé là :

.....

5. Khoanh vào chữ đặt trước câu trả lời đúng :

Số lớn nhất trong các số 49 376 ; 49 736 ; 38 999 ; 48 987 là :

A. 49 376

B. 49 736

C. 38 999

D. 48 987

LUYỆN TẬP

Số ?

- a) 65 000 ; ; ; 69 000 ; ;
b) 85 700 ; ; ; 86 000 ; 86 100 ; ;
c) 23 450 ; 23 460 ; ; ; ; 23 500 ;
d) 23 458 ; 23 459 ; ; ; 23 462 ; ;

2.

>
<
=

 ?

4658	...	4668	24 002	...	2400 + 2
72 518	...	72 189	6532	...	6500 + 30
63 791	...	79 163	9300 - 300	...	8000 + 1000
49 999	...	5000	8600	...	8000 + 600

3. Tính nhẩm :

$$7000 + 200 = \dots\dots$$

$$4000 \times 2 = \dots\dots$$

$$60000 + 30000 = \dots\dots$$

$$1000 + 3000 \times 2 = \dots\dots$$

$$8000 - 3000 = \dots\dots$$

$$(1000 + 3000) \times 2 = \dots\dots$$

$$90000 + 5000 = \dots\dots$$

$$9000 : 3 + 200 = \dots\dots$$

4. Số ?

- a) Số lớn nhất có bốn chữ số là : ; b) Số bé nhất có bốn chữ số là :
c) Số lớn nhất có năm chữ số là : ; d) Số bé nhất có năm chữ số là :

5. Đặt tính rồi tính :

8473 - 3240

$2078 + 4920$

• • • • •

14222 • J. Neurosci., September 24, 2008 • 28(39):14215–14222

• • • • •

• • • • •

• • • • •

• • • • •

$6842 : 2$

$$2031 \times 3$$

• • • • •

• • • • •

[illegible]

COLLEGE	TYPE	COLLEGE-OWNED	NONCOLLEGE-OWNED	TYPE
■ ■ ■	■ ■ ■	■ ■ ■	■ ■ ■ ■ ■	■ ■ ■ ■ ■

• • • • •

• • • • •

• • • • •

Bài 134 _____ LUYỆN TẬP _____

1. Viết (theo mẫu) :

Viết số	Đọc số
32 047	ba mươi hai nghìn không trăm bốn mươi bảy
	tám mươi sáu nghìn không trăm hai mươi lăm
70 003	
89 109	
	chín mươi bảy nghìn không trăm mười

2. Viết tiếp số thích hợp vào chỗ chấm :

a) 4396 ; 4397 ; ; ; ; 4401.

b) 34 568 ; 34 569 ; ; ; 34 572 ;

c) 99 995 ; ; ; 99 998 ; ;

3. Tìm x :

a) $x + 2143 = 4465$

.....

.....

b) $x - 2143 = 4465$

.....

.....

c) $x : 2 = 2403$

.....

.....

d) $x \times 3 = 6963$

.....

.....

4. Một ô tô chạy quãng đường dài 100km hết 10l xăng. Hỏi với 8l xăng thì ô tô đó chạy được quãng đường dài bao nhiêu ki-lô-mét ?

Bài giải

.....

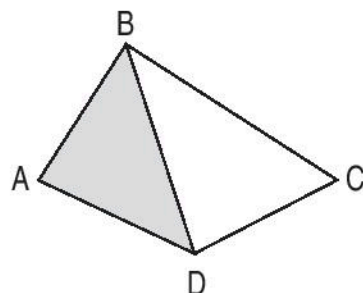
Bài 135 _____ DIỆN TÍCH CỦA MỘT HÌNH _____

1. Điền các từ “lớn hơn”, “bé hơn”, “bằng” thích hợp vào chỗ chấm :

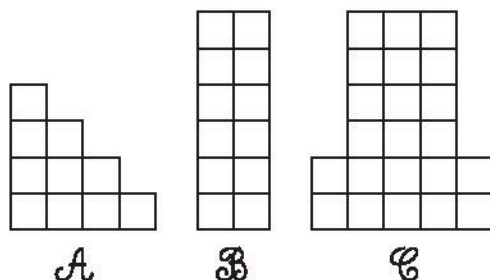
– Diện tích hình tam giác ABD
diện tích hình tứ giác ABCD.

– Diện tích hình tứ giác ABCD
diện tích hình tam giác BCD.

– Diện tích hình tứ giác ABCD
tổng diện tích hình tam giác ABD và diện
tích hình tam giác BCD.



2. Đúng ghi Đ, sai ghi S :



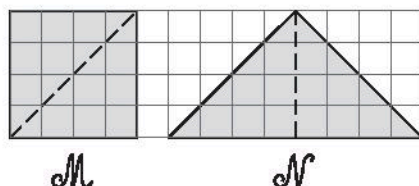
– Diện tích hình C bé hơn diện tích hình B.

– Tổng diện tích hình A và hình B bằng diện tích hình C.

– Diện tích hình A bé hơn diện tích hình B.



3. Khoanh vào chữ đặt trước câu trả lời đúng :




A. Diện tích hình M bằng diện tích hình N.

B. Diện tích hình M bé hơn diện tích hình N.

C. Diện tích hình M lớn hơn diện tích hình N.

4. Vẽ thêm một đoạn thẳng vào hình bên để được hai hình chữ nhật có diện tích bằng nhau.

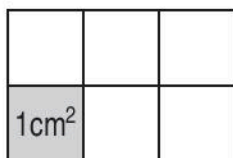


Bài 136 — ĐƠN VỊ ĐO DIỆN TÍCH. XĂNG-TI-MÉT VUÔNG —

1. Viết tiếp vào chỗ chấm cho thích hợp :

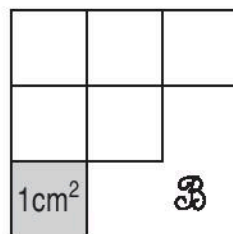
Đọc	Viết
Sáu xăng-ti-mét vuông
.....	12cm^2
Ba trăm linh năm xăng-ti-mét vuông
.....	2004cm^2

2. a) Viết tiếp vào chỗ chấm cho thích hợp :



A

Diện tích hình *A* bằng ... cm^2 .



B

Diện tích hình *B* bằng

b) Đúng ghi Đ, sai ghi S :

– Diện tích hình *A* bé hơn diện tích hình *B* .

– Diện tích hình *A* lớn hơn diện tích hình *B* .

– Diện tích hình *A* bằng diện tích hình *B* .



3. Tính :

a) $15\text{cm}^2 + 20\text{cm}^2 = \dots\dots\dots$; b) $12\text{cm}^2 \times 2 = \dots\dots\dots$

$60\text{cm}^2 - 42\text{cm}^2 = \dots\dots\dots$; $40\text{cm}^2 : 4 = \dots\dots\dots$


$20\text{cm}^2 + 10\text{cm}^2 + 15\text{cm}^2 = \dots\dots\dots$; $50\text{cm}^2 - 40\text{cm}^2 + 10\text{cm}^2 = \dots\dots\dots$

4. Số ?

Một tờ giấy gồm các ô
“xăng-ti-mét vuông” như hình bên.

Tờ giấy gồm ... ô vuông 1cm^2 .

Diện tích tờ giấy là ... cm^2 .

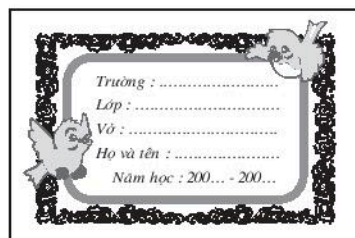


Bài 137 _____ DIỆN TÍCH HÌNH CHỮ NHẬT _____

1. Viết vào ô trống (theo mẫu) :

Chiều dài	Chiều rộng	Diện tích hình chữ nhật	Chu vi hình chữ nhật
15cm	9cm	$15 \times 9 = 135 \text{ (cm}^2\text{)}$	$(15 + 9) \times 2 = 48 \text{ (cm)}$
12cm	6cm		
20cm	8cm		
25cm	7cm		

2. Một nhãn vở hình chữ nhật có chiều dài 8cm, chiều rộng 5cm. Tính diện tích nhãn vở đó.



Bài giải

.....

.....

.....

3. Tính diện tích hình chữ nhật có chiều dài 2dm, chiều rộng 9cm.

Bài giải

$$2\text{dm} = \dots \text{cm}$$

.....

.....

.....

4. Tính diện tích các hình chữ nhật : AMND, MBCN và ABCD có kích thước ghi trên hình vẽ.

Bài giải

.....

.....

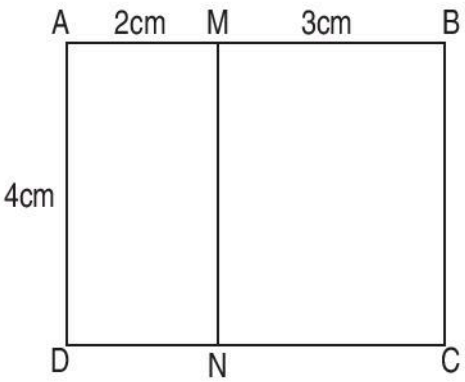
.....

.....

.....

.....

.....



Bài 138 _____ **LUYỆN TẬP** _____

1. Một hình chữ nhật có chiều dài 3dm, chiều rộng 8cm.

- a) Tính chu vi hình chữ nhật.
- b) Tính diện tích hình chữ nhật.

Bài giải

.....

.....

.....

.....

.....

.....

.....

2. Cho hình \mathcal{H} gồm hai hình chữ nhật ABCD và DEGH (xem hình vẽ). Tính diện tích hình \mathcal{H} theo kích thước ghi trên hình vẽ.

Bài giải

.....

.....

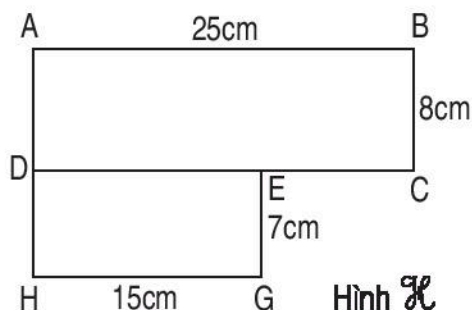
.....

.....

.....

.....

.....



3. Một hình chữ nhật có chiều rộng 8cm, chiều dài gấp 3 lần chiều rộng. Tính diện tích và chu vi hình chữ nhật đó.

Bài giải

.....

.....

.....

.....

.....

.....

.....

4. Đúng ghi Đ, sai ghi S :

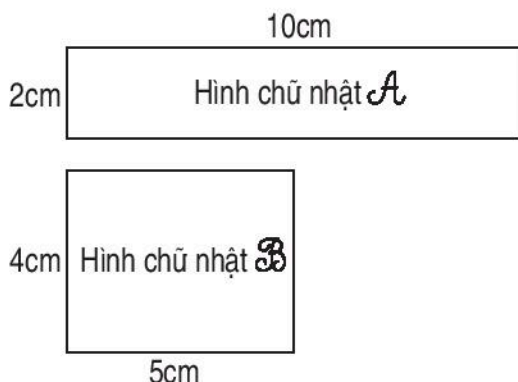
– Diện tích hình \mathcal{A} lớn hơn diện tích hình \mathcal{B} .

☐

– Diện tích hình \mathcal{A} bé hơn diện tích hình \mathcal{B} .

☐

– Diện tích hình \mathcal{A} bằng diện tích hình \mathcal{B} .

☐


Bài 139 DIỆN TÍCH HÌNH VUÔNG

1. Viết vào ô trống (theo mẫu) :

Cạnh hình vuông	Diện tích hình vuông	Chu vi hình vuông
2cm	$2 \times 2 = 4 \text{ (cm}^2\text{)}$	$2 \times 4 = 8 \text{ (cm)}$
4cm		
6cm		
8cm		

2. Một miếng nhựa hình vuông cạnh 40mm. Hỏi diện tích miếng nhựa đó là bao nhiêu xăng-ti-mét vuông ?

Bài giải

$$40\text{mm} = \dots \text{cm}$$

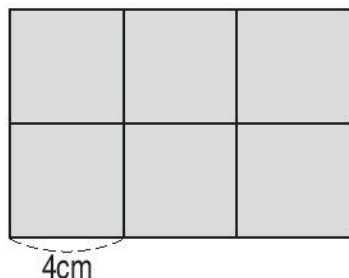
.....

3. Một hình vuông có chu vi 24cm. Tính diện tích hình vuông đó.

Bài giải

.....

4. Ghép 6 miếng nhựa hình vuông cạnh 4cm thành hình chữ nhật (xem hình vẽ). Tính diện tích hình chữ nhật đó.



Bài giải

.....

LUYỆN TẬP

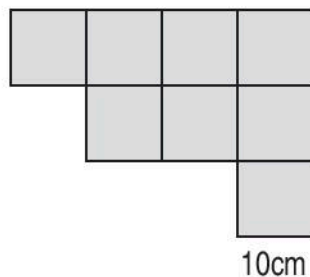
1. Tính diện tích hình vuông có cạnh là :

- a) 8cm.
- b) 6cm.

Bài giải

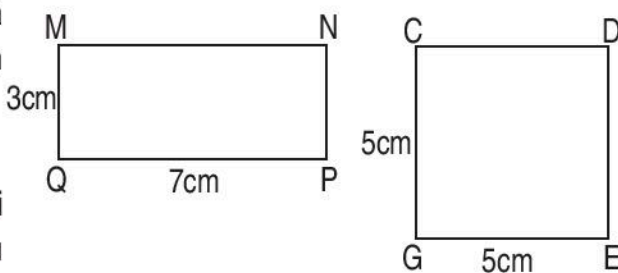
2. Để ốp thêm một mảng tường (như hình vẽ) người ta dùng hết 8 viên gạch men, mỗi viên gạch men là hình vuông cạnh 10cm. Hỏi mảng tường được ốp thêm có diện tích là bao nhiêu xăng-ti-mét vuông ?

Bài giải



3. Cho hình chữ nhật MNPQ và hình vuông CDEG có kích thước ghi trên hình vẽ.

- b) Tính diện tích mỗi hình. Hai hình đó có diện tích hơn kém nhau bao nhiêu xăng-ti-mét vuông ?



Bài giải

Bài 141_ PHÉP CỘNG CÁC SỐ TRONG PHẠM VI 100 000 ____

1. Đặt tính rồi tính :

$$36472 + 55418$$

.....

.....

.....

$$47409 + 48566$$

.....

.....

.....

$$78219 + 16758$$

.....

.....

.....

$$81567 + 9278$$

.....

.....

.....

$$85063 + 7892$$

.....

.....

.....

$$9889 + 90111$$

.....

.....

.....

2. Phân xưởng Một may được 4620 cái áo, phân xưởng Hai may được nhiều hơn phân xưởng Một 280 cái áo. Hỏi hai phân xưởng đó may được tất cả bao nhiêu cái áo ?

Bài giải

.....

.....

.....

.....

.....

3. Giải bài toán sau bằng hai phép tính :

Hai hình vuông có cạnh đều bằng 3cm và ghép lại thành hình chữ nhật (như hình vẽ). Tính diện tích của hình chữ nhật ABMN.

Bài giải

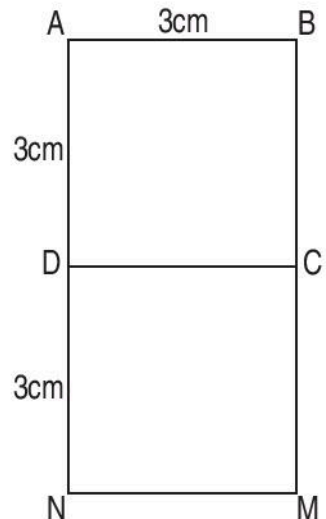
.....

.....

.....

.....

.....



Bài 142 **LUYỆN TẬP**

1. Tính :

$$\begin{array}{r} + 54672 \\ 28298 \\ \hline \end{array}$$

.....

$$\begin{array}{r} + 36159 \\ 38741 \\ \hline \end{array}$$

.....

$$\begin{array}{r} + 47066 \\ 19838 \\ \hline \end{array}$$

.....

$$\begin{array}{r} + 95648 \\ 4352 \\ \hline \end{array}$$

.....

2. Tính :

$$\begin{array}{r} 16528 \\ + 20132 \\ \hline 32416 \\ \hline \end{array}$$

.....

$$\begin{array}{r} 33527 \\ + 4130 \\ \hline 25269 \\ \hline \end{array}$$

.....

$$\begin{array}{r} 60500 \\ + 8197 \\ \hline 22023 \\ \hline \end{array}$$

.....

$$\begin{array}{r} 80909 \\ + 9090 \\ \hline 10001 \\ \hline \end{array}$$

.....

3. Giải bài toán theo tóm tắt sau :

Bài giải

Sáng bán : $\overbrace{\hspace{1.5cm}}^{200l}$

Chiều bán : $\overbrace{\hspace{3.5cm}}^{\hspace{0.5cm}} \} ? l$

.....
.....
.....
.....

4. Một hình chữ nhật có chiều dài bằng 12cm, chiều rộng bằng $\frac{1}{3}$ chiều dài. Tính :

a) Chu vi của hình chữ nhật.

b) Diện tích của hình chữ nhật.

Bài giải

.....
.....
.....
.....
.....
.....

Đáp số : a) ; b)

Bài 143 ____PHÉP TRỪ CÁC SỐ TRONG PHẠM VI 100 000____

1. Đặt tính rồi tính :

$$64852 - 27539$$

.....

.....

.....

$$85694 - 46528$$

.....

.....

.....

$$40271 - 36045$$

.....

.....

.....

$$72644 - 25586$$

.....

.....

.....

$$92500 - 4181$$

.....

.....

.....

$$100000 - 99999$$

.....

.....

.....

2. Một bể có 45 900l nước. Sau một tuần lễ sử dụng, trong bể còn 44 150l nước. Hỏi mỗi ngày đã dùng bao nhiêu lít nước, biết rằng số lít nước sử dụng mỗi ngày đều bằng nhau ?

Bài giải

.....

.....

.....

.....

.....

3. Viết tiếp vào chỗ chấm :

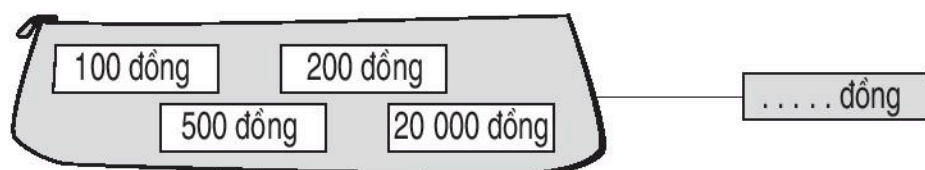
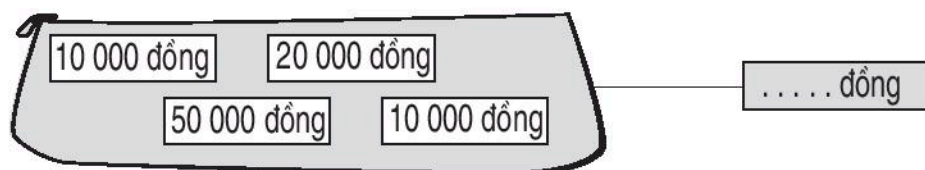
Phép trừ $100000 - 99999$ có thể tính nhẩm được vì

.....

.....

Bài 144 _____ TIỀN VIỆT NAM _____

1. Viết số thích hợp vào chỗ chấm (theo mẫu) :



2. Bác Toàn mua 2 vé xem xiếc, mỗi vé giá 20 000 đồng. Sau đó bác mua xăng xe máy hết 16 000 đồng.

a) Hỏi bác Toàn đã tiêu hết tất cả bao nhiêu tiền ?

b) Bác Toàn có 100 000 đồng. Hỏi bác có đủ tiền để mua vé xem xiếc và mua xăng không ?

Bài giải

.....

.....

.....

.....

.....

.....

3. Mỗi quyển vở giá 1500 đồng. Viết số tiền thích hợp vào ô trống trong bảng :

Số quyển vở	1 quyển	2 quyển	3 quyển	4 quyển
Số tiền	1500 đồng			

4. Viết số thích hợp vào ô trống (theo mẫu) :

Tổng số tiền	Số các tờ giấy bạc		
	10 000 đồng	20 000 đồng	50 000 đồng
80 000 đồng	1	1	1
30 000 đồng			
60 000 đồng			
90 000 đồng			
100 000 đồng			

Bài 145 LUYỆN TẬP

1. Tính nhẩm :

$80000 - 50000 = \dots\dots$

$70000 - 60000 = \dots\dots$

$90000 - 70000 = \dots\dots$

$100000 - 90000 = \dots\dots$

$60000 - 20000 = \dots\dots$

$100000 - 30000 = \dots\dots$

2. Đặt tính rồi tính :

$62947 - 25819$

$41572 - 12466$

$70254 - 63217$

.....

.....

.....

.....

.....

.....

.....

.....

.....

$84630 - 36402$

$35791 - 8855$

$14600 - 578$

.....

.....

.....

.....

.....

.....

.....

.....

.....

3. Bác Hoà thu được 32 650kg cà phê. Bác đã bán lần đầu được 20 000kg, lần sau bán 12 600kg. Hỏi bác Hoà còn lại bao nhiêu ki-lô-gam cà phê ? (Giải bài toán bằng hai cách khác nhau).

Bài giải

Cách 1.

.....

.....

.....

.....

Cách 2.

.....

.....

.....

.....

Bài 146 _____ LUYỆN TẬP CHUNG _____

1. Tính nhẩm :

a) $50000 + 20000 + 10000 = \dots\dots\dots$ b) $80000 - 30000 - 20000 = \dots\dots\dots$
 $50000 + (20000 + 10000) = \dots\dots\dots$ $80000 - (30000 + 20000) = \dots\dots\dots$

2. Đặt tính rồi tính :

$49635 + 31287$	$84752 - 56282$	$60800 - 21578$
.....
.....
.....

3. Đội Một thu được 45 600kg
tôm. Đội Hai thu được
nhiều hơn đội Một 5300kg
tôm. Đội Ba thu được ít
hơn đội Hai 4600kg tôm.
Hỏi đội Ba thu được bao
nhiêu ki-lô-gam tôm ?

Bài giải

.....
.....
.....
.....
.....
.....

4. Mua 2 quyển sổ phải trả 10 000 đồng. Hỏi mua 3 quyển sổ như thế phải trả bao
nhiêu tiền ?

Bài giải

.....
.....
.....
.....
.....

Bài 147 **NHÂN SỐ CÓ NĂM CHỮ SỐ** **VỚI SỐ CÓ MỘT CHỮ SỐ**

1. Tính :

$$\begin{array}{r} 10213 \\ \times \quad 3 \\ \hline \end{array}$$

.....

$$\begin{array}{r} 23051 \\ \times \quad 4 \\ \hline \end{array}$$

.....

$$\begin{array}{r} 21018 \\ \times \quad 4 \\ \hline \end{array}$$

.....

$$\begin{array}{r} 15112 \\ \times \quad 5 \\ \hline \end{array}$$

.....

$$\begin{array}{r} 12527 \\ \times \quad 3 \\ \hline \end{array}$$

.....

$$\begin{array}{r} 12130 \\ \times \quad 6 \\ \hline \end{array}$$

.....

2. Số ?

Thừa số	10 506	13 120	12 006	10 203
Thừa số	6	7	8	9
Tích				

3. Lần đầu người ta chuyển 18 250 quyển vở lên miền núi. Lần sau chuyển được số vở gấp 3 lần đầu. Hỏi cả hai lần đã chuyển bao nhiêu quyển vở lên miền núi ?

Bài giải

.....

.....

.....

.....

.....

Bài 148

LUYỆN TẬP

1. Đặt tính rồi tính :

12125×3

$$20516 \times 4$$

$$10513 \times 5$$

12008×6

• • • • •

• • • • •

• • • • •

• • • • •

• • • • •

• • • • •

• • • • •

• • • • •

• • • • •

• • • • •

• • • • •

• • • • •

2. Người ta dự định chuyển 87 650 quyển sách đến vùng lũ lụt theo hai đợt. Đợt đầu sẽ chuyển 3 lần, mỗi lần 20 530 quyển. Hỏi đợt sau sẽ chuyển bao nhiêu quyển sách đến vùng lũ lụt ?

Bài giải

.....

.....

.....

.....

.....

3. Tính giá trị của biểu thức :

a) $21018 \times 4 + 10975 = \dots\dots\dots$; b) $10819 \times 5 - 24567 = \dots\dots\dots$

$$= \frac{1}{2} \left(\frac{1}{2} + \frac{1}{2} \right) = \frac{1}{2}$$

c) $12345 + 10203 \times 7 = \dots\dots\dots$; d) $98765 - 15026 \times 4 = \dots\dots\dots$

$$= \frac{1}{2} \left(\frac{1}{2} + \frac{1}{2} \right) = \frac{1}{2}$$

4. Tính nhẩm (theo mẫu) :

$5000 \times 2 = ?$ Nhẩm : năm nghìn nhân hai bằng mười nghìn.

Viết : $5000 \times 2 = 10000$

$$2000 \times 2 = \dots\dots\dots$$

$10000 \times 2 = \dots\dots\dots$

$2000 \times 4 = \dots\dots\dots$

$11000 \times 3 = \dots\dots\dots$

$2000 \times 5 = \dots\dots\dots$

$12000 \times 4 = \dots\dots\dots$

Bài 149 CHIA SỐ CÓ NĂM CHỮ SỐ CHO SỐ CÓ MỘT CHỮ SỐ

1. Tính :

$$\begin{array}{r} 24682 \overline{) 2} \\ \hline \end{array}$$

$$\begin{array}{r} 18426 \overline{) 3} \\ \hline \end{array}$$

$$\begin{array}{r} 25632 \overline{) 2} \\ \hline \end{array}$$

2. Tính giá trị của biểu thức :

a) $45823 - 35256 : 4 = \dots\dots\dots$; b) $(42017 + 39274) : 3 = \dots\dots\dots$
 $= \dots\dots\dots$; $= \dots\dots\dots$

c) $45138 + 35256 : 4 = \dots\dots\dots$; d) $(42319 - 24192) \times 3 = \dots\dots\dots$
 $= \dots\dots\dots$; $= \dots\dots\dots$

3. Một nhà máy dự định sản xuất 15 420 cái cốc. Nhà máy đã sản xuất được $\frac{1}{3}$ số lượng đó. Hỏi nhà máy còn phải sản xuất bao nhiêu cái cốc nữa ?

Bài giải

.....

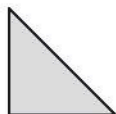
.....

.....

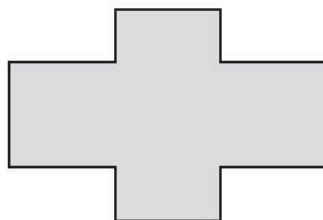
.....

.....

4. Cho 8 hình tam giác, mỗi hình như hình sau :



Hãy xếp thành hình dưới đây :



Bài 150 CHIA SỐ CÓ NĂM CHỮ SỐ CHO SỐ CÓ MỘT CHỮ SỐ (tiếp theo)

1. Tính :

$$\begin{array}{r} 15607 \overline{) 5} \\ \hline \end{array}$$

.....

.....

.....

$$\begin{array}{r} 27068 \overline{) 6} \\ \hline \end{array}$$

.....

.....

.....

$$\begin{array}{r} 14789 \overline{) 7} \\ \hline \end{array}$$

.....

.....

.....

2. Người ta đã chuẩn bị 32 850 quyển vở phân đều cho 4 trường. Hỏi mỗi trường được nhận nhiều nhất bao nhiêu quyển vở và còn thừa mấy quyển ?

Bài giải

.....

.....

.....

.....

3.

Số

 ?

Số bị chia	Số chia	Thương	Số dư
12 729	6		
21 798	7		
49 687	8		
30 672	9		

1. Tính :

$$\begin{array}{r|l} 18540 & 2 \\ \hline \end{array}$$

.....

.....

.....

$$\begin{array}{r|l} 21421 & 3 \\ \hline \end{array}$$

.....

.....

.....

$$\begin{array}{r|l} 33686 & 4 \\ \hline \end{array}$$

.....

.....

.....

2. Đặt tính rồi tính :

$$10600 : 5$$

.....

.....

.....

.....

.....

$$24903 : 6$$

.....

.....

.....

.....

.....

$$30175 : 7$$

.....

.....

.....

.....

.....

3. Người ta đã chuẩn bị 10 848kg đường kính và bột để làm bánh, $\frac{1}{4}$ số đó là đường kính. Hỏi mỗi loại có bao nhiêu ki-lô-gam ?

Bài giải

.....

.....

.....

.....

.....

4. Khoanh vào chữ đặt trước câu trả lời đúng :

Kết quả của phép tính $40050 : 5$ là :

A. 810

B. 801

C. 81

D. 8010

Bài 152 _____ **LUYỆN TẬP CHUNG** _____

1. Đặt tính rồi tính :

$$4182 \times 4$$

.....
.....
.....

$$16728 : 4$$

.....
.....
.....
.....
.....

$$62146 : 3$$

.....
.....
.....
.....
.....
.....

2. Nhà trường mua 235 hộp bánh, mỗi hộp có 6 cái bánh. Số bánh này đem chia hết cho học sinh, mỗi bạn được 2 cái bánh. Hỏi có tất cả bao nhiêu bạn được chia bánh ?

Bài giải

.....
.....
.....
.....
.....

3. Một hình chữ nhật có chiều dài 36cm, chiều rộng bằng $\frac{1}{4}$ chiều dài. Tính diện tích hình chữ nhật đó.

Bài giải

.....
.....
.....
.....
.....

4. Ngày 20 tháng 11 là thứ hai. Hỏi những ngày thứ hai trong tháng đó là những ngày nào ?

Bài giải

.....
.....
.....
.....
.....

Bài 153_ BÀI TOÁN LIÊN QUAN ĐẾN RÚT VỀ ĐƠN VỊ_____

(tiếp theo)

1. Có 16kg kẹo đựng đều trong 8 hộp. Hỏi 10kg kẹo đựng trong mấy hộp như thế ?

Tóm tắt

Bài giải

16kg : 8 hộp

10kg : ... hộp ?

2. Các phòng học đều được lắp số quạt trần như nhau. Có 5 phòng học lắp 20 cái quạt trần. Hỏi có 24 cái quạt trần thì lắp được vào mấy phòng học ?

Tóm tắt

Bài giải

20 cái : 5 phòng

24 cái : ... phòng ?

3. Đúng ghi Đ, sai ghi S :

a) $32 : 4 : 2 = 8 : 2$

$= 4$ ☐

$32 : 4 : 2 = 32 : 2$

$= 16$ ☐

b) $18 : 2 \times 3 = 18 : 6$

$= 3$ ☐

$18 : 2 \times 3 = 9 \times 3$

$= 27$ ☐

Bài 154 **LUYỆN TẬP**

1. Cứ 10 học sinh thì phân đều vào 5 bàn học. Hỏi có 36 học sinh cũng phân như thế thì cần bao nhiêu bàn học ?

*Tóm tắt**Bài giải*

10 học sinh : 5 bàn

36 học sinh : ... bàn ?

.....

.....

.....

2. Người bán hàng tính rằng cứ 60 cái cốc thì xếp đều vào 10 bàn. Hỏi có 78 cái cốc thì xếp đều vào bao nhiêu bàn như thế ?

*Tóm tắt**Bài giải*

60 cái cốc : 10 bàn

78 cái cốc : ... bàn ?

.....

.....

.....

3. Nối mỗi biểu thức với giá trị của biểu thức đó (theo mẫu) :

$$48 : 6 : 2$$

$$40 : 5 \times 2$$

$$20 \times 4 : 2$$

3

16

12

4

40

90

$$18 : 3 \times 2$$

$$36 : 6 : 2$$

$$15 \times 3 \times 2$$

LUYỆN TẬP

1. Một người đi xe máy trong 14 phút đi được 7km. Hỏi nếu cứ đi đều như vậy trong 36 phút thì người đó đi được bao nhiêu ki-lô-mét ?

Tóm tắt

Bài giải

14 phút : 7km

36 phút : . . . km ?

2. Có 56kg kẹo chia đều vào 8 hộp. Hỏi phải lấy mấy hộp đó để được 35kg kẹo ?

Bài giải

3. $\begin{array}{|c|} \hline \times \\ \hline : \\ \hline \end{array} ?$

a) $48 \square 6 \square 2 = 4$

$$48 \square 6 \square 2 = 16$$

b) $27 \square 9 \square 3 = 9$

$$27 \square 9 \square 3 = 1$$

4. Cho biết :

Lớp 3A có 9 học sinh giỏi, 18 học sinh khá và 5 học sinh trung bình.

Lớp 3B có 10 học sinh giỏi, 19 học sinh khá và 6 học sinh trung bình.

Lớp 3C có 9 học sinh giỏi, 20 học sinh khá và 4 học sinh trung bình.

Hãy viết số thích hợp vào ô trống :

Lớp	3A	3B	3C	Tổng
Số học sinh giỏi				
Số học sinh khá				
Số học sinh trung bình				
Tổng				

Bài 156 _____ LUYỆN TẬP CHUNG _____

1. Tính giá trị của biểu thức :

a) $(10728 + 11605) \times 2 = \dots\dots\dots$; b) $(45728 - 24811) \times 4 = \dots\dots\dots$

$= \dots\dots\dots$; $= \dots\dots\dots$

c) $40435 - 32528 : 4 = \dots\dots\dots$; d) $82915 - 15283 \times 3 = \dots\dots\dots$

$= \dots\dots\dots$; $= \dots\dots\dots$

2. Năm 2005 có 365 ngày.

Bài giải

Hỏi năm đó gồm bao $\dots\dots\dots$

nhiều tuần lễ và mấy ngày ? $\dots\dots\dots$

$\dots\dots\dots$

$\dots\dots\dots$

3. Có 16 560 viên gạch xếp
đều lên 8 xe tải. Hỏi 3 xe
đó chở được bao nhiêu
viên gạch ?

Bài giải

Tóm tắt $\dots\dots\dots$

8 xe : 16 560 viên gạch $\dots\dots\dots$

3 xe : . . . viên gạch ? $\dots\dots\dots$

4. Một hình vuông có chu vi
3dm 2cm. Hỏi hình vuông
đó có diện tích bằng bao
nhiều xăng-ti-mét vuông ?

Bài giải

$\dots\dots\dots$

$\dots\dots\dots$

$\dots\dots\dots$

$\dots\dots\dots$

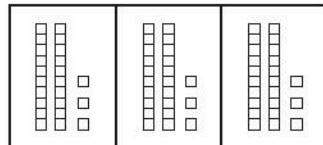
$\dots\dots\dots$

$\dots\dots\dots$

TỰ KIỂM TRA

Phần 1. Mỗi bài tập dưới đây có các câu trả lời A, B, C, D. Hãy khoanh vào chữ đặt trước câu trả lời đúng.

- Số liền sau của 75 829 là :
 A. 75 839 B. 75 819 C. 75 830 D. 75 828
- Các số 62 705 ; 62 507 ; 57 620 ; 57 206 sắp xếp theo thứ tự từ bé đến lớn là :
 A. 62 705 ; 62 507 ; 57 620 ; 57 206 B. 57 620 ; 57 206 ; 62 507 ; 62 705
 C. 57 206 ; 62 507 ; 57 620 ; 62 705 D. 57 206 ; 57 620 ; 62 507 ; 62 705
- Kết quả của phép cộng $22846 + 41627$ là :
 A. 63 463 B. 64 473 C. 64 463 D. 63 473
- Kết quả của phép trừ $64398 - 21729$ là :
 A. 42 679 B. 43 679 C. 42 669 D. 43 669
- Hình vẽ bên minh họa cho phép tính nào ?
 A. $69 : 3$ B. 69×3
 C. $69 - 3$ D. $69 + 3$



- Một hình chữ nhật có chiều dài 15m, chiều rộng 10m. Chu vi của hình chữ nhật đó là :

A. 15m B. 10m C. 50m D. 150m

Phần 2. Làm các bài tập sau :

- Đặt tính rồi tính :

$$31825 \times 3$$

.....


$$27450 : 6$$

.....

2. Nói (theo mẫu) :

Mười chín nghìn bốn trăm hai mươi lăm	70 628
Bảy mươi nghìn sáu trăm hai mươi tám	55 306
Năm mươi lăm nghìn ba trăm linh sáu	19 425
Ba mươi nghìn không trăm ba mươi	90 001
Chín mươi nghìn không trăm linh một	30 030

3. Viết số thích hợp vào chỗ chấm (theo mẫu) :




5 giờ

hoặc 17 giờ ;



... giờ ... phút

hoặc ... giờ ... phút ;



... giờ ... phút

hoặc ... giờ ... phút

4. Bài toán :

Một cửa hàng ngày đầu bán được 135m vải, ngày thứ hai bán được 360m vải.
 Ngày thứ ba bán được bằng $\frac{1}{3}$ số mét vải đã bán trong hai ngày đầu. Hỏi ngày
 thứ ba cửa hàng đó bán được bao nhiêu mét vải ?

Bài giải

.....

.....

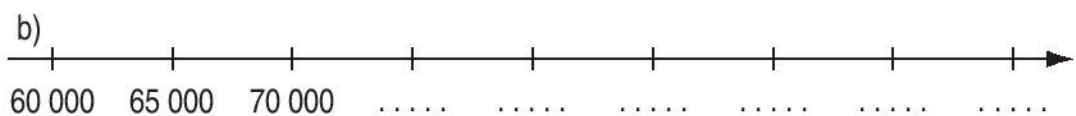
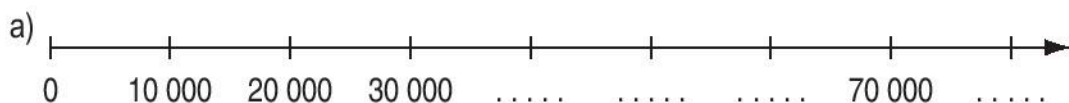
.....

.....

.....

Bài 157 _____ ÔN TẬP CÁC SỐ ĐẾN 100 000 _____

1. Viết tiếp số thích hợp vào dưới mỗi vạch :



2. Viết (theo mẫu) :

Viết số	Đọc số
75 248	bảy mươi lăm nghìn hai trăm bốn mươi tám
30 795	
	tám mươi lăm nghìn chín trăm linh chín
46 037	
80 105	
	bốn mươi một nghìn sáu trăm

3. Viết (theo mẫu) :

a) $7618 = 7000 + 600 + 10 + 8$

$9274 = \dots\dots\dots$;

$4404 = \dots\dots\dots$;

$1942 = \dots\dots\dots$

$5076 = \dots\dots\dots$

$2005 = \dots\dots\dots$

b) $5000 + 700 + 20 + 4 = 5724$

$6000 + 800 + 90 + 5 = \dots\dots$;

$5000 + 500 + 50 + 5 = \dots\dots$;

$2000 + 400 = \dots\dots$

$2000 + 20 = \dots\dots$

$2000 + 7 = \dots\dots$

4. Viết tiếp số thích hợp vào chỗ chấm :

a) 2004 ; 2005 ; 2006 ; ;

b) 8100 ; 8200 ; 8300 ; ;

c) 75 000 ; 80 000 ; 85 000 ; ;

Bài 158 _ÔN TẬP CÁC SỐ ĐẾN 100 000 (tiếp theo)_____

1.

>
<
=

 ?
- | | |
|-------------------------|---------------------------|
| 69 245 ... 69 260 | 70000 + 30000 ... 100 000 |
| 73 500 ... 73 499 | 20000 + 40000 ... 60 600 |
| 60 000 ... 59000 + 1000 | 80000 + 8000 ... 80 900 |

2. Khoanh vào chữ đặt trước câu trả lời đúng :

a) Số lớn nhất trong các số 72 350 ; 72 305 ; 72 503 ; 72 530 là :

A. 72 350

B. 72 305

C. 72 503

D. 72 530

b) Số bé nhất trong các số 58 624 ; 58 426 ; 58 462 ; 58 642 là :

A. 58 624

B. 58 426

C. 58 462

D. 58 642

3. Các số 84 735 ; 74 835 ; 74 385 ; 85 347 viết theo thứ tự từ bé đến lớn là :

.....

4. Các số 67 032 ; 70 632 ; 72 630 ; 67 320 viết theo thứ tự từ lớn đến bé là :

.....

5. Viết số thích hợp vào chỗ chấm :

a) Số liền sau của 9999 là :

b) Số liền sau của 99 999 là :

c) Số liền trước của 50 000 là :

d) Số liền trước của 87 605 là :

Bài 159 **ÔN TẬP BỐN PHÉP TÍNH** **TRONG PHẠM VI 100 000**

1. Tính nhẩm :

- | | |
|---------------------------------------|---------------------------------------|
| a) $50000 + 40000 = \dots\dots\dots$ | b) $42000 + 6000 = \dots\dots\dots$ |
| $90000 - 20000 = \dots\dots\dots$ | $86000 - 4000 = \dots\dots\dots$ |
| c) $40000 \times 2 = \dots\dots\dots$ | d) $12000 \times 3 = \dots\dots\dots$ |
| $80000 : 4 = \dots\dots\dots$ | $72000 : 8 = \dots\dots\dots$ |

2. Đặt tính rồi tính :

$28439 + 34256$	$64217 + 19547$	$91584 - 65039$	$36950 - 8924$
.....
.....
.....
.....
.....
.....
.....
.....
.....
.....

3. Một xí nghiệp may được 50 000 áo sơ mi, lần đầu bán được 28 000 áo sơ mi, lần sau bán được 17 000 áo sơ mi. Hỏi xí nghiệp đó còn lại bao nhiêu áo sơ mi ? (Giải bằng hai cách khác nhau).

Bài giải

Cách 1	Cách 2
.....
.....
.....
.....

Bài 160 ÔN TẬP BỐN PHÉP TÍNH **TRONG PHẠM VI 100 000 (tiếp theo)**

1. Tính nhẩm :

a) $30000 + (20000 + 40000) = \dots\dots$

$30000 + 20000 + 40000 = \dots\dots$

$60000 - (30000 + 20000) = \dots\dots$

$60000 - 30000 - 20000 = \dots\dots$

b) $40000 \times 2 : 4 = \dots\dots$

$36000 : 6 \times 3 = \dots\dots$

$20000 \times 4 : 8 = \dots\dots$

$60000 : 3 : 2 = \dots\dots$

2. Đặt tính rồi tính :

$8526 + 1954$

.....

.....

.....

$99900 - 9789$

.....

.....

.....

$67426 + 7358$

.....

.....

.....

6204×6

.....

.....

.....

$9562 - 3836$

.....

.....

.....

8026×4

.....

.....

.....

3. Tìm x :

a) $1996 + x = 2002$

.....

.....

b) $x \times 3 = 9861$

.....

.....

c) $x : 4 = 250$

.....

.....

4. Mua 5 bóng đèn phải trả 42 500 đồng. Hỏi mua 8 bóng đèn như thế phải trả bao nhiêu tiền ?

Bài giải

.....

.....

.....

.....

.....

Bài 161 _____ **ÔN TẬP BỐN PHÉP TÍNH** _____ **TRONG PHẠM VI 100 000 (tiếp theo)**

1. Tính nhẩm :

a) $2000 + 4000 \times 2 = \dots\dots$

b) $18000 - 4000 : 2 = \dots\dots$

$(2000 + 4000) \times 2 = \dots\dots$

$(18000 - 4000) : 2 = \dots\dots$

2. Đặt tính rồi tính :

$897 + 7103$

$5000 - 75$

5142×8

.....

.....

.....

.....

.....

.....

.....

.....

.....

3805×6

$13889 : 7$

$65080 : 8$

.....

.....

.....

.....

.....

.....

.....

.....

.....

.....

.....

.....

.....

$8942 + 5457 + 105$

$9090 + 505 + 807$

.....

.....

.....

.....

.....

.....

.....

.....

3. Trên sân vận động có
2450 học sinh cầm hoa đỏ
hoặc hoa vàng để xếp
hình, trong đó có $\frac{1}{5}$ số
học sinh cầm hoa vàng.
Hỏi có bao nhiêu học sinh
cầm hoa đỏ ?

Bài giải


.....

4. Khoanh vào chữ đặt trước câu trả lời đúng :

Lan xếp bánh thành các hàng và các cột cho đầy khay rồi phủ khăn lên như hình bên :

Hỏi có bao nhiêu cái bánh ?

- A. 13 cái bánh B. 28 cái bánh
C. 22 cái bánh D. 35 cái bánh



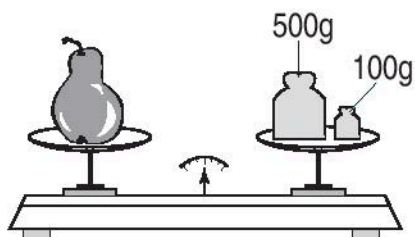
Bài 162 ÔN TẬP VỀ ĐẠI LƯỢNG

1.

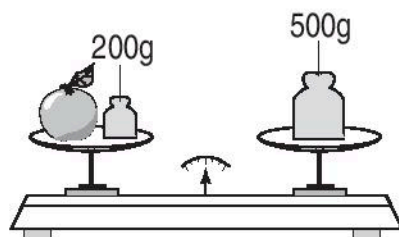
>
<
=

 ?
- | | |
|------------------|------------------|
| 7m 5cm ... 7m | 7m 5cm ... 75cm |
| 7m 5cm ... 8m | 7m 5cm ... 705cm |
| 7m 5cm ... 750cm | |

2. Nhìn hình vẽ dưới đây rồi viết tiếp vào chỗ chấm :



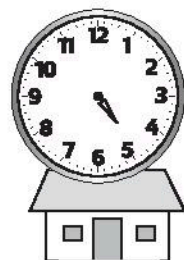

- Quả lê cân nặng
– Quả lê nặng hơn quả táo là :



- Quả táo cân nặng

3. a) Vẽ thêm kim phút để đồng hồ chỉ thời gian tương ứng :

Mình đi từ trường lúc 4 giờ rưỡi chiều. Mình về đến nhà lúc 5 giờ kém 10 phút chiều.



b) Nhìn đồng hồ rồi viết số thích hợp vào chỗ chấm :

Minh đi từ trường về nhà hết . . . phút.

Bài giải

4. Châu có 5000 đồng.
 Châu đã mua 2 quyển
 vở, giá mỗi quyển vở là
 1500 đồng. Hỏi Châu
 còn lại bao nhiêu tiền ?

Bài 163 _____ ÔN TẬP VỀ HÌNH HỌC _____

1. a) Viết tiếp vào chỗ chấm cho thích hợp :

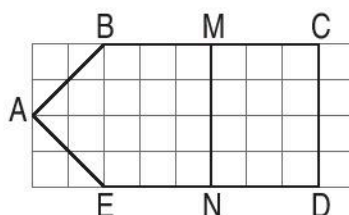
– Trong hình bên có các góc vuông là :

.....

– M là trung điểm của đoạn thẳng

N là trung điểm của đoạn thẳng

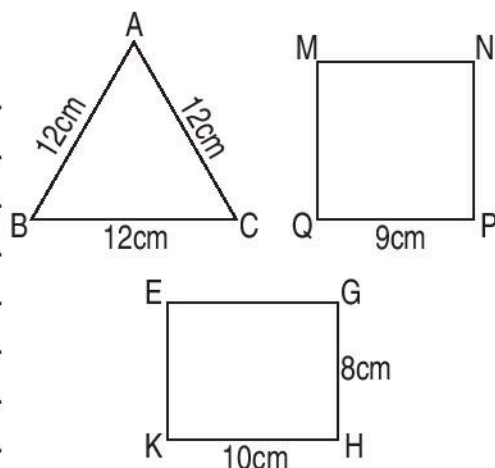
b) Xác định trung điểm I của đoạn thẳng MN, trung điểm K của đoạn thẳng CD (bằng cách đánh dấu rồi ghi tên điểm đó trên hình vẽ).



2. Tính chu vi hình tam giác ABC, hình vuông MNPQ, hình chữ nhật EGHK (có kích thước ghi trên hình vẽ) :

Bài giải

.....



3. Một hình chữ nhật và một hình vuông có cùng chu vi. Biết độ dài cạnh hình vuông là 25cm, chiều dài hình chữ nhật là 36cm.

- a) Tính chu vi hình vuông.
b) Tính chiều rộng hình chữ nhật.

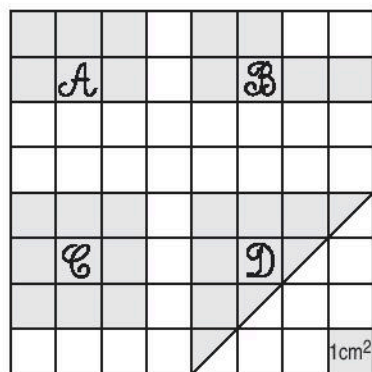
Bài giải

Đáp số : a) ; b)

Bài 164 — ÔN TẬP VỀ HÌNH HỌC (tiếp theo) —

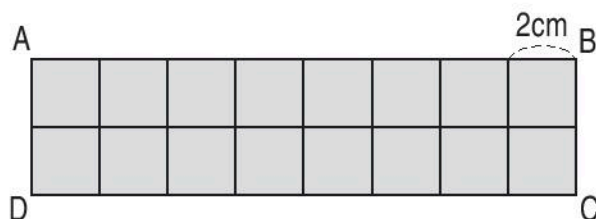
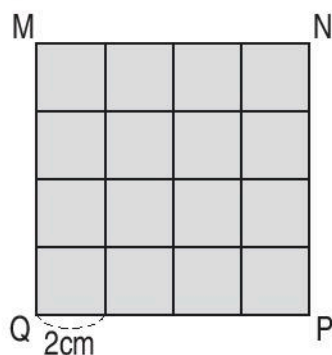
1. Viết tiếp vào chỗ chấm :

- Diện tích hình A là : ... cm^2 .
- Diện tích hình B là :
- Diện tích hình C là :
- Diện tích hình D là :
- Hai hình có diện tích bằng nhau là :
- Trong các hình đã cho, hình có diện tích lớn nhất là :



2. Hình vuông MNPQ và hình chữ nhật ABCD đều được ghép từ 16 miếng bìa hình vuông cạnh 2cm (như hình vẽ).

- a) Tính diện tích mỗi hình. So sánh diện tích hai hình đó.
b) Tính chu vi mỗi hình. Hai hình đó có chu vi hơn kém nhau bao nhiêu xăng-ti-mét ?



Bài giải

.....

.....

.....

.....

.....

.....

.....

.....

.....

.....

.....

3. Tính diện tích hình \mathcal{H} có kích thước ghi trên hình vẽ :

Bài giải

.....

.....

.....

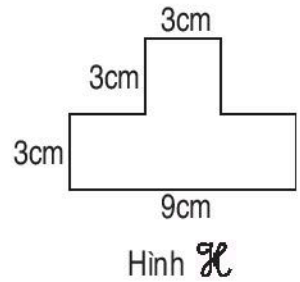
.....

.....

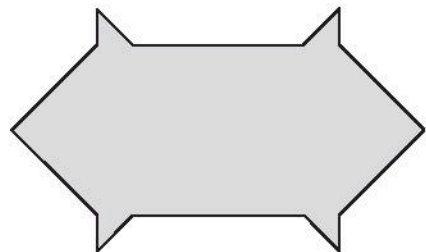
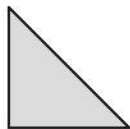
.....

.....

.....



4. Cho 8 hình tam giác, mỗi hình như hình sau :



Hãy xếp thành hình bên :

Bài 165 _____ ÔN TẬP VỀ GIẢI TOÁN _____

1. Hai năm trước đây số dân của một huyện là 53 275 người, năm ngoái số dân của huyện này tăng thêm 761 người, năm nay tăng thêm 726 người. Hỏi năm nay huyện đó có số dân là bao nhiêu người ?

Bài giải

.....

2. Một cửa hàng có 2345kg gạo, đã bán được $\frac{1}{5}$ số gạo đó. Hỏi cửa hàng còn lại bao nhiêu ki-lô-gam gạo ?

Bài giải

.....

3. Có 1080 gói mì đựng đều vào 8 thùng, đã bán được 3 thùng đó. Hỏi đã bán được bao nhiêu gói mì ?

Tóm tắt

Bài giải

... thùng : ... gói

.....

... thùng : ... gói ?

.....

.....

.....

.....

4.

Đ
S

 ?

$$\begin{aligned} \text{a) } 135 - 35 : 5 &= 100 : 5 \\ &= 20 \end{aligned} \quad \square$$

$$\begin{aligned} 135 - 35 : 5 &= 135 - 7 \\ &= 128 \end{aligned} \quad \square$$

$$\begin{aligned} \text{b) } 246 + 54 \times 2 &= 246 + 108 \\ &= 354 \end{aligned} \quad \square$$

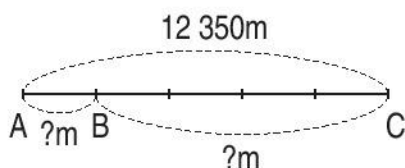
$$\begin{aligned} 246 + 54 \times 2 &= 300 \times 2 \\ &= 600 \end{aligned} \quad \square$$

Bài 166 _____ ÔN TẬP VỀ GIẢI TOÁN (tiếp theo) _____

1. Quãng đường AC dài 12 350m gồm hai đoạn đường, đoạn đường AB dài bằng $\frac{1}{5}$ quãng đường AC. Tính độ dài đoạn đường AB và đoạn đường BC.

Tóm tắt

Bài giải



2. Người ta dự định chuyển 25 200 gói mì đến vùng lũ lụt bằng 8 xe tải chở đều nhau. Hỏi 3 xe đó chở được bao nhiêu gói mì ?

Tóm tắt

Bài giải

8 xe : 25 200 gói

3 xe : ... gói ?

3. Người ta đóng gói số bút chì vào các hộp đều như nhau. Cứ 30 bút chì thì đóng vào 5 hộp. Hỏi có 24 750 bút chì thì đóng vào bao nhiêu hộp như thế ?

Bài giải

4. Khoanh vào chữ đặt trước câu trả lời đúng :

a) Biểu thức $2 + 18 \times 5$ có giá trị là :

A. 100

B. 28

C. 92

D. 126

b) Biểu thức $16 : 4 \times 2$ có giá trị là :

A. 2

B. 8

C. 32

D. 12

Bài 167 _____ **LUYỆN TẬP CHUNG** _____

1. Viết các số :

- a) Năm mươi bảy nghìn chín trăm bốn mươi hai :
- b) Hai mươi tư nghìn một trăm linh bốn :
- c) Tám mươi nghìn tám trăm năm mươi :
- d) Bảy mươi lăm nghìn chín trăm :
- e) Mười hai nghìn không trăm linh sáu :

2. Đặt tính rồi tính :

$$37264 + 25328$$

.

.

.

$$7416 \times 4$$

.

.

.

$$96851 - 67825$$

.

.

.

$$27436 : 7$$

.

.

.

.

.

- 3. Mua 3 đôi giày cùng loại phải trả 37 800 đồng. Hỏi mua 6 đôi giày như thế phải trả bao nhiêu tiền ?**

Bài giải

.

.

.

.

.

4. Tính :

a) $(12 + 8) \times 4 = \dots\dots\dots$

$= \dots\dots\dots$

$12 + 8 \times 4 = \dots\dots\dots$

$= \dots\dots\dots$


b) $25 + 75 : 5 = \dots\dots\dots$

$= \dots\dots\dots$


$(25 + 75) : 5 = \dots\dots\dots$

$= \dots\dots\dots$

5. Đồng hồ chỉ mấy giờ ?




.....



.....

hoặc kém



.....

hoặc kém

Bài 168 LUYỆN TẬP CHUNG

1. Khoanh vào chữ đặt trước câu trả lời đúng :

a) Số liền trước của 5480 là :

A. 6480

B. 5481

C. 5479

D. 5470

b) Số liền sau của 10 000 là :

A. 9999

B. 10 001

C. 11 000

D. 9000

c) Số lớn nhất trong các số 63 527 ; 63 257 ; 63 725 ; 63 752 là :

A. 63 527

B. 63 257

C. 63 725

D. 63 752

2. Đặt tính rồi tính :

$$75318 + 7138$$

.....

.....

.....

$$2405 \times 9$$

.....

.....

.....

$$62970 - 5958$$

.....

.....

.....

$$6592 : 8$$

.....

.....

.....

.....

3. Một quầy hàng có 1260kg rau, đã bán được $\frac{1}{3}$ số rau đó. Hỏi cửa hàng còn lại bao nhiêu ki-lô-gam rau ?

Bài giải

.....


.....

.....

.....

.....

4. Xem bảng dưới đây rồi viết số thích hợp vào chỗ chấm :

Tên người mua	 5000đồng	 2000đồng	 3000đồng	Số tiền phải trả
Lan	2	1	0	12 000 đồng
Hùng	1	2	2	15 000 đồng
Liên	1	1	1	10 000 đồng

a) Lan mua ... con gấu, ... quả bóng, ... ô tô buýt.

Lan phải trả đồng.

b) Hùng mua ... con gấu, ... quả bóng, ... ô tô buýt.

Hùng phải trả đồng.

c) Liên mua ... con gấu, ... quả bóng, ... ô tô buýt.

Liên phải trả đồng.

d) Lan, Hùng, Liên mua tất cả ... con gấu, ... quả bóng, ... ô tô buýt và phải trả tổng số tiền là đồng.

e) Em có 20 000 đồng, em có thể mua được nhiều nhất là : ... con gấu, ... quả bóng, ... ô tô buýt.

Bài 169 **LUYỆN TẬP CHUNG**

1. Viết tiếp vào chỗ chấm :

a) Số liền sau của 31 460 là :

b) Số liền trước của 18 590 là :

c) Các số 72 356 ; 76 532 ; 75 632 ; 67 532 viết theo thứ tự từ bé đến lớn là :
.....

2. Đặt tính rồi tính :

$27864 + 8026$

$52971 - 6205$

3516×6

$2082 : 9$

.....

.....

.....

.....

.....

.....

.....

.....

.....

.....

.....

.....

.....

3. Tìm x :

a) $x \times 4 = 912$

b) $x : 3 = 248$

.....

.....

.....

.....

4. Viết dấu \times vào ô trống cạnh những tháng có 30 ngày :

Tháng Một ☐

Tháng Năm ☐

Tháng Chín ☐

Tháng Hai ☐

Tháng Sáu ☐

Tháng Mười ☐

Tháng Ba ☐

Tháng Bảy ☐

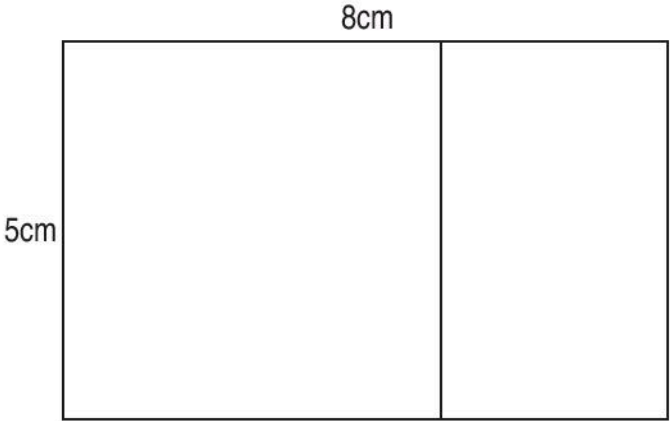
Tháng Mười một ☐

Tháng Tư ☐

Tháng Tám ☐

Tháng Mười hai ☐

5. Một tấm bìa hình chữ nhật có chiều dài 8cm và chiều rộng 5cm. Cắt tấm bìa này thành tấm bìa hình vuông có cạnh bằng 5cm và tấm bìa còn lại là một hình chữ nhật (xem hình vẽ). Tính diện tích tấm bìa còn lại bằng các cách khác nhau.



Bài giải

Cách 1.
.....
.....
.....
.....

Cách 2.
.....
.....
.....
.....
.....

TỰ KIỂM TRA

Phần 1. Mỗi bài tập dưới đây có các câu trả lời A, B, C, D. Hãy khoanh vào chữ đặt trước câu trả lời đúng :

1. Số liền trước của 67 540 là :

A. 67 550

B. 67 530

C. 67 541

D. 67 539

2. Số lớn nhất trong các số 96 835 ; 89 653 ; 98 653 ; 89 635 là :

A. 96 835

B. 89 653

C. 98 653

D. 89 635

3. Kết quả của phép nhân 1815×4 là :

A. 4240

B. 7260

C. 7240

D. 4260

4. Kết quả của phép chia $72560 : 8$ là :

A. 907

B. 970

C. 97

D. 9070

5. Một phòng họp hình chữ nhật có chiều dài khoảng :

A. 10cm

B. 10dm

C. 10m

D. 10km

Phần 2. Làm các bài tập sau :

1. Đặt tính rồi tính :

$$38246 + 7539$$

$$12893 - 5847$$

.....

.....

.....

.....

.....

.....

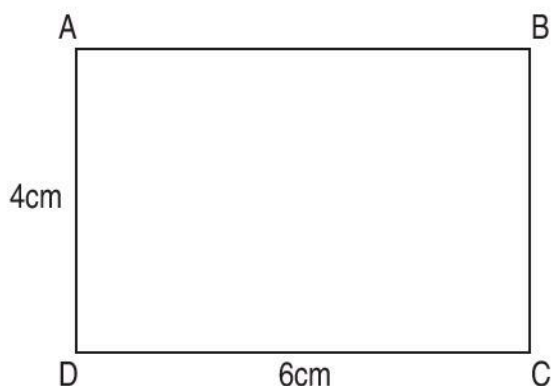
2. Viết kết quả tính vào chỗ chấm :

a) Chu vi hình chữ nhật ABCD


là :

b) Diện tích hình chữ nhật ABCD


là :



3. Đồng hồ chỉ mấy giờ ? (Nêu hai cách trả lời)



.....
.....



.....
.....

4. Bài toán :

Một người đi bộ trong 5 phút được 450m. Hỏi trong 8 phút người đó đi được bao nhiêu mét (quãng đường đi được trong mỗi phút đều như nhau) ?

Bài giải

.....
.....
.....
.....
.....

BẢNG NHÂN

$2 \times 1 = 2$	$3 \times 1 = 3$	$4 \times 1 = 4$	$5 \times 1 = 5$	$6 \times 1 = 6$	$7 \times 1 = 7$	$8 \times 1 = 8$	$9 \times 1 = 9$
$2 \times 2 = 4$	$3 \times 2 = 6$	$4 \times 2 = 8$	$5 \times 2 = 10$	$6 \times 2 = 12$	$7 \times 2 = 14$	$8 \times 2 = 16$	$9 \times 2 = 18$
$2 \times 3 = 6$	$3 \times 3 = 9$	$4 \times 3 = 12$	$5 \times 3 = 15$	$6 \times 3 = 18$	$7 \times 3 = 21$	$8 \times 3 = 24$	$9 \times 3 = 27$
$2 \times 4 = 8$	$3 \times 4 = 12$	$4 \times 4 = 16$	$5 \times 4 = 20$	$6 \times 4 = 24$	$7 \times 4 = 28$	$8 \times 4 = 32$	$9 \times 4 = 36$
$2 \times 5 = 10$	$3 \times 5 = 15$	$4 \times 5 = 20$	$5 \times 5 = 25$	$6 \times 5 = 30$	$7 \times 5 = 35$	$8 \times 5 = 40$	$9 \times 5 = 45$
$2 \times 6 = 12$	$3 \times 6 = 18$	$4 \times 6 = 24$	$5 \times 6 = 30$	$6 \times 6 = 36$	$7 \times 6 = 42$	$8 \times 6 = 48$	$9 \times 6 = 54$
$2 \times 7 = 14$	$3 \times 7 = 21$	$4 \times 7 = 28$	$5 \times 7 = 35$	$6 \times 7 = 42$	$7 \times 7 = 49$	$8 \times 7 = 56$	$9 \times 7 = 63$
$2 \times 8 = 16$	$3 \times 8 = 24$	$4 \times 8 = 32$	$5 \times 8 = 40$	$6 \times 8 = 48$	$7 \times 8 = 56$	$8 \times 8 = 64$	$9 \times 8 = 72$
$2 \times 9 = 18$	$3 \times 9 = 27$	$4 \times 9 = 36$	$5 \times 9 = 45$	$6 \times 9 = 54$	$7 \times 9 = 63$	$8 \times 9 = 72$	$9 \times 9 = 81$
$2 \times 10 = 20$	$3 \times 10 = 30$	$4 \times 10 = 40$	$5 \times 10 = 50$	$6 \times 10 = 60$	$7 \times 10 = 70$	$8 \times 10 = 80$	$9 \times 10 = 90$

BẢNG CHIA

$2 : 2 = 1$	$3 : 3 = 1$	$4 : 4 = 1$	$5 : 5 = 1$	$6 : 6 = 1$	$7 : 7 = 1$	$8 : 8 = 1$	$9 : 9 = 1$
$4 : 2 = 2$	$6 : 3 = 2$	$8 : 4 = 2$	$10 : 5 = 2$	$12 : 6 = 2$	$14 : 7 = 2$	$16 : 8 = 2$	$18 : 9 = 2$
$6 : 2 = 3$	$9 : 3 = 3$	$12 : 4 = 3$	$15 : 5 = 3$	$18 : 6 = 3$	$21 : 7 = 3$	$24 : 8 = 3$	$27 : 9 = 3$
$8 : 2 = 4$	$12 : 3 = 4$	$16 : 4 = 4$	$20 : 5 = 4$	$24 : 6 = 4$	$28 : 7 = 4$	$32 : 8 = 4$	$36 : 9 = 4$
$10 : 2 = 5$	$15 : 3 = 5$	$20 : 4 = 5$	$25 : 5 = 5$	$30 : 6 = 5$	$35 : 7 = 5$	$40 : 8 = 5$	$45 : 9 = 5$
$12 : 2 = 6$	$18 : 3 = 6$	$24 : 4 = 6$	$30 : 5 = 6$	$36 : 6 = 6$	$42 : 7 = 6$	$48 : 8 = 6$	$54 : 9 = 6$
$14 : 2 = 7$	$21 : 3 = 7$	$28 : 4 = 7$	$35 : 5 = 7$	$42 : 6 = 7$	$49 : 7 = 7$	$56 : 8 = 7$	$63 : 9 = 7$
$16 : 2 = 8$	$24 : 3 = 8$	$32 : 4 = 8$	$40 : 5 = 8$	$48 : 6 = 8$	$56 : 7 = 8$	$64 : 8 = 8$	$72 : 9 = 8$
$18 : 2 = 9$	$27 : 3 = 9$	$36 : 4 = 9$	$45 : 5 = 9$	$54 : 6 = 9$	$63 : 7 = 9$	$72 : 8 = 9$	$81 : 9 = 9$
$20 : 2 = 10$	$30 : 3 = 10$	$40 : 4 = 10$	$50 : 5 = 10$	$60 : 6 = 10$	$70 : 7 = 10$	$80 : 8 = 10$	$90 : 9 = 10$

VỞ BÀI TẬP TOÁN 3 - TẬP HAI

Mã số : 1H308T2

In cuốn, khổ 17×24 cm. In tại.....

Số in : Giấy phép xuất bản số :.....

In xong và nộp lưu chiểu tháng ... năm 20..



HUÂN CHƯƠNG HỒ CHÍ MINH



VỞ BÀI TẬP DÀNH CHO HỌC SINH LỚP 3

1. Vở bài tập Tiếng Việt 3 (tập một, tập hai)
2. Vở bài tập Toán 3 (tập một, tập hai)
3. Vở bài tập Tự nhiên và Xã hội 3
4. Vở bài tập Đạo đức 3
5. Vở Tập vẽ 3
6. Tập bài hát 3
7. Let's Learn English - Book 1 - Workbook

Bạn đọc có thể mua sách tại :

- Các Công ty Sách - Thiết bị trường học ở các địa phương.
- Công ty CP Đầu tư và Phát triển Giáo dục Hà Nội, 187B Giảng Võ, TP. Hà Nội.
- Công ty CP Đầu tư và Phát triển Giáo dục Phương Nam, 231 Nguyễn Văn Cừ, Quận 5, TP. HCM.
- Công ty CP Đầu tư và Phát triển Giáo dục Đà Nẵng, 15 Nguyễn Chí Thanh, TP. Đà Nẵng.

hoặc các cửa hàng sách của Nhà xuất bản Giáo dục Việt Nam :

- Tại TP. Hà Nội : 187 Giảng Võ ; 14/3 Nguyễn Khánh Toàn ; 232 Tây Sơn ; 25 Hàn Thuyên ; 51 Lò Đúc ; 45 Hàng Chuối ; 67B Cửa Bắc ; 45 Phố Vọng ; Ngõ 385 Hoàng Quốc Việt.
- Tại TP. Đà Nẵng : 78 Pasteur ; 247 Hải Phòng ; 71 Lý Thường Kiệt.
- Tại TP. Hồ Chí Minh : 2A Đinh Tiên Hoàng, Quận 1 ; 231 Nguyễn Văn Cừ ; 240 Trần Bình Trọng, Quận 5 ; 116 Đinh Tiên Hoàng, Phường 1, Quận Bình Thạnh.
- Tại TP. Cần Thơ : 162D Đường 3 tháng 2, Quận Ninh Kiều.
- Tại Website bán hàng trực tuyến : www.sach24.vn

Website: www.nxbgd.vn

mã vạch



Tem chống giả

Giá: